

Silvia Armani, Adriana Cacciavillani,
Cristina Zamorano, Alejandra Acevedo

Ciencias Naturales I - Polimodal

Proyecto pedagógico con modalidad a distancia para la terminalidad de estudios de EGB3 y Educación Polimodal EDITEP

Silvia Armani, Adriana Cacciavillani,
Cristina Zamorano, Alejandra Acevedo

Este libro se edita como material de aprendizaje destinado al personal de seguridad pública de la Provincia de Mendoza. Su finalidad es la de orientar los procesos educativos desarrollados en el marco del proyecto pedagógico con modalidad a distancia para la terminalidad de estudios de EGB3 y Educación Polimodal –EDITEP–, implementado a partir de la firma del Convenio entre la Universidad Nacional de Cuyo y el Gobierno de la Provincia de Mendoza, en octubre de 2003.

Ciencias Naturales I - Polimodal

Proyecto pedagógico con modalidad a distancia para la terminalidad de estudios de EGB3 y Educación Polimodal EDITEP

Ciencias Naturales I - Polimodal

[Serie Trayectos Cognitivos]

EDIUNC

EDIUNC



GOBIERNO DE MENDOZA



UNIVERSIDAD NACIONAL DE CUYO

Ciencias Naturales I - Polimodal

**Proyecto pedagógico con modalidad a distancia para la terminalidad
de estudios de EGB₃ y Educación Polimodal EDITEP**

Universidad Nacional de Cuyo (Mendoza, República Argentina)

Rectora: Dra. María Victoria Gómez de Erice

Vicerrector: Ing. Agr. Arturo Somoza

Secretaria de Extensión Universitaria: Mgter. Rosa Fader de Guiñazú

Directora General del CICUNC: Lic. Martina Funes

Directora de Educación a Distancia: Mgter. Fernanda Ozollo

Director de Nuevas Tecnologías: Mgter. Omar Arancibia

Gobierno de Mendoza

Gobernador: Ing. Julio Cobos

Ministro de Justicia y Seguridad Social: Dr. Osvaldo Tello

Directora General de Escuelas: Lic. Emma Cunietti

Subsecretario de Relaciones con la Comunidad, -MJyS-: Lic. Gabriel Conte

Subsecretario de Administración y Gestión Educativa, -DGE-: Lic. Flavio Arjona

Proyecto EDITEP

Responsables del Proyecto

Responsable Institucional: Mgter. Rosa Fader de Guiñazú

Directora de Proyecto: Mgter. Fernanda Ozollo

Coordinadora General del Proyecto: Lic. Mónica Matilla

Coordinador Tecnológico: Mgter. Omar Arancibia

Comité Estratégico del Proyecto

Gobierno de Mendoza -Ministerio de Seguridad y Justicia-: Lic. Luis Romero

Gobierno de Mendoza -Dirección General de Escuelas-: Prof. Eduardo Andrade

Universidad Nacional de Cuyo: Lic. Mónica Matilla, Mgter. Fernanda Ozollo

EDIUNC

Editorial de la Universidad Nacional de Cuyo

Director: Prof. René Gotthelf





Universidad Nacional de Cuyo
Secretaría de Extensión Universitaria

Ciencias Naturales I - Polimodal

**Proyecto pedagógico con modalidad a distancia para la terminalidad
de estudios de EGB3 y Educación Polimodal EDITEP**

**Silvia Armani, Adriana Cacciavillani,
Cristina Zamorano, Alejandra Acevedo**

**EDIUNC
Mendoza, 2005**

Ciencias Naturales I - Polimodal

Coordinación de la elaboración del libro

Marcela Orlando

Asesoras expertas

Ximena Erice, Mercedes Estrella

Producción de textos

Silvia Armani, Adriana Cacciavillani,
Cristina Zamorano

Procesamiento didáctico

Alejandra Acevedo

Corrección de estilo

Luis Emilio Abraham, Gonzalo Casas, Pilar Piñeyrúa

Diseño de cubierta e interior

Coordinador

Claudio E. Cicchinelli

Diseñadores

Carolina Chiconi, Fabricio de la Vega, Natalia Lobarbo,
Julieta Martín, Lorena Pelegrina

Ilustradores

Matías Arges, J. Mariano Ruszaj

Primera edición. Mendoza, 2005

Publicación de la Secretaría de Extensión Universitaria de la Universidad Nacional de Cuyo
Serie Trayectos Cognitivos, N° 23

Ciencias Naturales I : polimodal : proyecto pedagógico con modalidad a distancia
para terminalidad de estudios de EGB 3 y Educación Polimodal EDITEP /
Silvia Armani... -- 1ª. ed. – Mendoza : EDIUNC, 2005.

124 p.; 29,7 cm. - (Trayectos cognitivos; 23)

ISBN 950-39-0189-8

1- Ciencias Naturales 2- Ciencias Físicas y Naturales 3- Biofísica 4- Enseñanza de las
ciencias 5- Ciencias de la vida I- Armani, Silvia II- Cacciavillani, Adriana III- Zamorano,
Cristina IV- Acevedo, Alejandra



Impreso en Argentina – Printed in Argentina

ISBN 950-39-0189-8

Queda hecho el depósito que marca la ley 11.723

EDIUNC, 2005

Centro Universitario, 5500 Mendoza

República Argentina

EJE 1 INTERACCIONES:	13
SECUENCIA 1: APRENDAMOS ALGO DE MECÁNICA	15
MAGNITUDES	15
Unidades para medir	16
Conversión de unidades	18
MECÁNICA	19
Conocimientos que aborda	19
Cinemática	20
Sistema de referencia	20
Distancia y desplazamiento	23
Rapidez	25
Velocidad	27
Representación del movimiento	29
Aceleración	32
Aceleración media	33
SECUENCIA 2: LAS REACCIONES QUÍMICAS EN LA NATURALEZA	34
EL ÁTOMO	34
Partículas subatómicas	34
Valores que identifican a los átomos. Número atómico y número másico	35
Tabla periódica	37
Distribución de los electrones en un átomo	39
Uniones entre átomos: uniones o enlaces químicos	43
REACCIONES QUÍMICAS	43
Reacciones químicas en la naturaleza	47
Reacciones químicas en los seres vivos	50
La fotosíntesis y la respiración	50
Otra reacción de óxido-reducción: La fermentación	54
EJE 2 SISTEMAS:	61
SECUENCIA 3: DINÁMICA	63
SISTEMA DE FUERZAS	63
Concepto de fuerza	63
Clasificación de fuerzas	66
ESTÁTICA	68
DINÁMICA	69
Primera ley de Newton: Principio de Inercia	70
Segunda ley de Newton: Ley Fundamental de la Dinámica	71
Diferencia entre masa y peso	73
Tercera ley de Newton: Principio de Interacción	75

DENSIDAD Y PESO ESPECÍFICO	77
FUERZA Y PRESIÓN	79
Instrumentos para medir la presión	81
EJE 3 CAMBIOS:	85
SECUENCIA 4: SIGLO XX...	
¡CUÁNTOS AVANCES CIENTÍFICOS!	87
LA CÉLULA	87
Funciones celulares: nutrición, relación y reproducción	88
Estructuras del núcleo de la célula	89
Cromosomas - ADN y genes.....	89
Interface	92
Mitosis	93
BIOTECNOLOGÍA	95
Una aplicación de la ingeniería genética: Tecnología alimentaria	97
Alimentos transgénicos	97
Un dilema ¿Hay que temer a la ingeniería genética?	98
SECUENCIA 5: CAMBIA, TODO CAMBIA	101
SUSTANCIAS ORGÁNICAS E INORGÁNICAS.....	101
Características	101
Las sustancias orgánicas e inorgánicas y los seres vivos	103
ALIMENTOS: COMPOSICIÓN QUÍMICA	105
Azúcares	106
Lípidos	107
Proteínas	108
Minerales	108
Vitaminas	110
Agua	110
ALIMENTOS. VALOR CALÓRICO Y SU INCIDENCIA EN LOS SERES VIVOS	111
La caloría	111
Valores de los nutrientes.....	112
Gasto calórico. Metabolismo	113
Balance de energía. Ecuación del balance energético	114
Índice de masa corporal	116
BIBLIOGRAFÍA UTILIZADA EN LA ELABORACIÓN DEL MATERIAL	123

INTRODUCCIÓN

Estimado lector:

Queremos felicitarlo y alentarle. Ha iniciado un camino de aprendizaje que, seguramente, significará un esfuerzo extra para Ud. pero que estamos seguros le traerá grandes satisfacciones.

Usted ha iniciado un proceso de crecimiento interior.

Con este material ingresará al mundo de las **ciencias naturales**.

Pero, ¿qué tratan las ciencias naturales?...

Las ciencias naturales integran disciplinas que Ud. seguramente conoce. Ellas son: **biología, química, física, ciencias de la tierra**.

Estas disciplinas tratan temas realmente apasionantes que han llevado a muchos hombres, a lo largo de la historia, a asumir el maravilloso desafío de la **investigación científica** en busca de beneficios para la humanidad.

¿Recuerda haber estudiado la fotosíntesis?

La **fotosíntesis** es el proceso por el cual los vegetales elaboran su propio alimento para vivir.

En este ejemplo podemos observar la integración de las disciplinas que mencionábamos anteriormente:

- La **biología**, cuyo foco de estudio es el mundo viviente, aporta los conocimientos referidos al comportamiento de los vegetales.
- La **física** analiza el rol de la energía y sus transformaciones.
- La **química** centra su atención en los elementos, cambios y reacciones químicas que se producen en el proceso.

Tal vez ahora puede empezar a entender por qué hablamos de **ciencias naturales** y no de disciplinas aisladas.

En algunos casos deberemos priorizar el análisis desde una de ellas.

Pero en muchas ocasiones intentaremos dar respuestas, a las preguntas que nos hacemos, desde la visión integradora que proponen las **ciencias naturales**.

¿Qué esperamos de Ud. al finalizar este curso?

A través de este material intentaremos:

- Facilitar la comprensión de fenómenos naturales que se manifiestan cotidianamente en nuestra realidad.
- Estimular la reflexión sobre procesos que explican el origen y el desarrollo de la vida.

¿Qué contenidos desarrollaremos?

Este camino de aprendizaje cuenta con un conjunto de conocimientos organizados en tres grandes ejes:

- 1- **LAS INTERACCIONES:** nos permitirán entender las relaciones presentes en el medio y su organización.
- 2- **LOS SISTEMAS:** nos permitirán una visión global e integrada de la realidad.
- 3- **LOS CAMBIOS:** nos permitirán tomar conciencia sobre la dinámica de la realidad.

¿Cómo se organiza el material?

El material con el que usted contará para el estudio de este curso, está organizado en tres capítulos, uno para cada eje de contenidos:

Eje 1. Interacciones: secuencias 1 y 2.

Eje 2. Sistemas: secuencia 3.

Eje 3. Cambios: secuencias 4 y 5.

Recuerde que todas las actividades que usted realizará se presentan con un **ícono**. Estos íconos son:



ícono

¿Recuerda la definición que le presentamos en el primer curso? Un ícono es un dibujo, una imagen que representa y transmite un mensaje que podemos entender, que podemos interpretar.



PENSAR. Significa que usted tiene que detenerse un momento a analizar detenidamente lo que ha leído.



TRABAJAR EN FORMA INDIVIDUAL. Le indica que la actividad de aprendizaje propuesta la realizará usted solo.



TRABAJAR EN FORMA GRUPAL. Significa que la actividad de aprendizaje propuesta, en este caso, la realizará con sus compañeros.



RECORDAR. Este ícono presenta información resumida e importante. En general, se trata de algo que usted ya aprendió antes, en este curso o en otros anteriores, y que ahora va a necesitar usar nuevamente.



LEER. Indica la lectura de otros textos especiales para comprender los temas tratados. Son textos obtenidos de otros materiales, y que se citan en este trabajo porque son necesarios para comprender los temas mencionados.

Le recordamos también que usted, dentro del material, dispone de espacios con líneas punteadas en cada hoja donde puede realizar todas las anotaciones que crea necesarias. También encontrará, al finalizar cada eje, hojas con líneas de punto para tomar apuntes de las explicaciones de su profesor. Puede anotar también allí sus dudas, preguntas, las ideas que vayan apareciendo a medida que lee el material; justamente para esto está reservado el espacio de NOTAS.

¿Cómo trabajaremos?

Este curso que hoy comienza está pensado para trabajar con **modalidad a distancia**. Usted se preguntará: ¿qué características tiene esta modalidad? Pues bien, esto significa que no asistirá todos los días a clases durante cuatro o cinco horas, sino que irá realizando el curso con el apoyo de tres ayudas valiosas que le sugerimos aproveche al máximo:

a) Por un lado, las **clases** con su profesor y su grupo de compañeros, donde recibirá las explicaciones de los contenidos y se realizarán las actividades previstas. En estos encuentros, usted podrá preguntar todo lo que no entiende. No dude en hacerlo, su profesor está para ayudarlo en su proceso.

b) Por otro lado, tendrá a su disposición este **material**, para que lo lea y vaya siguiendo el curso, tanto en las clases como en las horas de estudio que deberá dedicarle diariamente. Este curso le demandará entre 4 y 6 horas de estudio por semana. Comience a organizar sus tiempos para llevarlo al día.

c) De ahora en adelante hay una nueva figura en su proceso de aprendizaje: EL TUTOR. El tutor es un profesional que lo acompañará en todo su proceso de aprendizaje, tanto en este curso como en todos los que realice dentro del **primer año de**



primer año de Polimodal

En el primer año del nivel Polimodal, además de este curso, usted deberá desarrollar y aprobar Matemática I, Lengua: Comprensión y Producción I, Historia Argentina, Democracia y Derechos de Primera Generación, Problemáticas y Políticas Sociales.

Polimodal . Seguramente usted se preguntará: ¿cómo hago para estudiar?, ¿cómo organizo mi tiempo para llevar al día el estudio de los cinco cursos que forman el octavo año?, ¿de qué se trata esto de una modalidad a distancia?, ¿qué hago si tengo dudas sobre los textos del material o alguna de sus actividades y falta tiempo hasta que vea al profesor en las clases? Éstas y otras cuestiones pueden aparecer a medida que vaya trabajando con el material. Es justamente el tutor el que estará para solucionar esto. Usted se comunicará con él a través del "campus virtual" que la Universidad Nacional de Cuyo ha creado especialmente para este proyecto.

No dude en consultar a su tutor: él será su compañero en este camino y tiene la tarea de colaborar con usted para que tenga la menor cantidad de inconvenientes posibles y pueda resolver sus dudas.

¿Cómo vamos a evaluar este curso?

En este curso vamos a tener dos tipos de evaluaciones:

- a) de proceso
- b) de resultado

a) Evaluaciones de proceso

Como usted sabe, cada curso se organiza en ejes de contenidos dentro de los cuales hay distintas actividades de aprendizaje. Por cada eje de contenidos tendrá que realizar "trabajos prácticos" que entregará a su tutor a través del campus virtual. Él le indicará cuáles son y en qué momentos los debe entregar. Es por eso que resulta importantísimo que no pierda el contacto con él y entre al campus periódicamente. Estos trabajos prácticos serán corregidos y se les asignará una nota numérica.

A su vez, para cada eje de contenidos le propondremos una evaluación sobre todos los contenidos desarrollados dentro del mismo y que usted ha ido estudiando con el material. Según el eje, deberá resolver esta evaluación de una de estas dos formas posibles:

- Con el profesor, durante las clases.
- O bien, en su casa. En este caso, su tutor le enviará a través del campus virtual la evaluación y usted la resolverá y entregará en papel a su profesor durante las clases.

Tanto su profesor como el tutor le irán indicando las fechas y cuál de estas dos formas se utilizará para realizar cada evaluación. Estas evaluaciones de eje serán corregidas y también se les asignará una nota numérica.

RECORDAR



Con las notas de los trabajos prácticos y la de la evaluación de eje, se hará un promedio numérico y así se obtendrá la calificación que le corresponde a ese eje de contenidos. De la misma manera se procederá con todos los ejes previstos para el curso.

b) Evaluación de resultado


Al finalizar el curso se realizará una evaluación integradora, es decir, una evaluación que nos permita conocer cómo ha sido su proceso en el aprendizaje de todos los contenidos del curso. Esta evaluación se hará siempre en las clases con su profesor y también será corregida con una calificación numérica.

RECORDAR



La calificación definitiva del curso resultará de promediar las notas que obtuvo en cada eje de contenidos con la que obtuvo en la evaluación integradora.

En todos los casos, para calificar utilizaremos una escala numérica del 1 al 10. Usted deberá obtener como mínimo un 7 para aprobar el curso. En caso de no aprobar en esta instancia, tendrá derecho a una "evaluación recuperatoria", es decir que tendrá tiempo para volver a estudiar el material antes de ser evaluado nuevamente. Esto también se lo informará su tutor.



Eje 1: Interacciones

SECUENCIA Nº 1

APRENDAMOS ALGO DE MECÁNICA

A partir de este momento comenzaremos a abordar un conocimiento propio de la física que, seguramente, le resultará muy útil para entender algunos hechos que vive cotidianamente.

Para empezar este trayecto tomaremos "algunas medidas".

MAGNITUDES

ACTIVIDADES



1. Responda desde su conocimiento: ¿qué entiende por medir?

.....

.....

.....

.....

.....

.....

.....

.....

.....

.....

.....

.....

.....

.....

.....

.....

.....

.....

.....

.....

.....

Supongamos que queremos medir el alto de una puerta y para ello contamos con una lapicera.

Podemos decir que el alto por medir tiene como cantidad veinte y como unidad el largo de la lapicera.

Medir una cantidad física (por ejemplo el alto de una puerta) es comparar cuántas veces cabe en dicha cantidad otra homogénea con ella, (es decir otra longitud, por ejemplo la de una lapicera) que se toma arbitrariamente como unidad de medida.

Todo esto anda bien mientras conservemos la lapicera que usamos o, por lo menos, que indiquemos marca y modelo de la misma.

De no hacerlo así cualquiera podría discutirnos la medición realizada al pretender verificarla usando otra lapicera.

Ahora, en vez de una lapicera tomamos una cinta métrica.

Una **magnitud física** que puede ser medida adquiere sentido cuando se la compara con otra que se toma como elemento de referencia.

Una vez definida la **unidad de medida** para ciertas magnitudes, se pueden definir las correspondientes a otras magnitudes a partir de ella.

Las primeras se conocen como **magnitudes fundamentales** y las segundas como **magnitudes derivadas**.

Existen distintos sistemas de medidas; el más utilizado en la actualidad es el **Sistema Internacional (SI)**.

Basado en el SI, en nuestro país se utiliza el **SIMELA (Sistema Métrico Legal Argentino)**, que considera como magnitudes fundamentales las siguientes:

Magnitud	Nombre de la unidad SI básica	Símbolo
Longitud	metro	m
Masa	kilogramo	kg
Tiempo	segundo	s
Intensidad de corriente eléctrica	amperio	A
Temperatura termodinámica	kelvin	K
Cantidad de sustancia	mol	mol
Intensidad luminosa	candela	cd

Veamos algunos ejemplos en particular.

La unidad de medida de la magnitud longitud es el **metro (m)**. El metro tiene su origen en el sistema métrico decimal.

Por acuerdo internacional, el metro patrón se había definido como la distancia entre dos rayas finas sobre una barra hecha de una aleación de platino e iridio y conservada en París.

El metro volvió a redefinirse en 1983 como la longitud recorrida por la luz en el vacío en un determinado tiempo.

La unidad de medida de la magnitud masa es el **kilogramo (Kg)**.

Cuando se creó el sistema métrico decimal el kilogramo se definió como la masa de 1 decímetro cúbico de agua pura a la



metrología

Es la ciencia que tiene por objeto el estudio de las unidades y de las medidas de las magnitudes, define también las exigencias técnicas de los métodos e instrumentos de medida.

NOTAS

.....

.....

.....

.....

.....

.....

.....

.....

.....

.....

.....

.....

.....

.....

.....

.....

.....

.....

.....

.....

.....

.....

.....

.....

.....

.....

NOTAS

temperatura en que alcanza su máxima densidad (4,0 °C). Se fabricó un cilindro de platino que tuviera la misma masa que dicho volumen de agua en las condiciones especificadas.

La unidad de medida de la magnitud tiempo es el **segundo (s)**. Se define el segundo a partir de la frecuencia de resonancia del átomo de cesio, es decir, la frecuencia en que dicho átomo absorbe energía.

La unidad de medida de la magnitud temperatura es el grado **Kelvin (°K)**

La escala de temperaturas adoptada se basó en una temperatura del punto triple del agua. Se asignó un valor de 273° K a la temperatura del punto triple del agua, que equivale exactamente a 0 °C en la escala de temperaturas de Celsius o centígrada.

Las unidades para todas las demás magnitudes, como por ejemplo, velocidad, aceleración, volumen etc., se derivan de las unidades fundamentales.

CONVERSIÓN DE UNIDADES

Para convertir unidades se ha definido una serie de unidades mayores (múltiplos) y unidades menores (submúltiplos) que las unidades patrones, que son potencias de 10, positivas y negativas.

En la tabla se observan algunas de las unidades más usuales:

Prefijo de las unidades para medir	Significa potencia de:	Abreviatura
<i>micro</i>	10^{-6}	μ
<i>mili</i>	10^{-3}	<i>m</i>
<i>centi</i>	10^{-2}	<i>c</i>
<i>deci</i>	10^{-1}	<i>d</i>
<i>deca</i>	10^1	<i>da</i>
<i>hecto</i>	10^2	<i>h</i>
<i>kilo</i>	10^3	<i>k</i>
<i>mega</i>	10^6	<i>M</i>

Entonces para la magnitud longitud tenemos:

Equivalencia	kilómetro	hectómetro	decímetro	metro	decímetro	centímetro	milímetro
	1000m	100m	10m	1m	0,1m	0,01m	0,01m
	10^3	10^2	10^1		10^{-1}	10^{-2}	10^{-3}

Esta tabla se lee, por ejemplo, de la siguiente forma:

1km = 1000m 1hm = 100m 1cm = 0.01m

Seguramente trabajó este tema en el área Matemática. Es muy importante que descubra la relación entre las distintas áreas de conocimiento. Las ciencias naturales utilizan a la matemática como herramienta para sus cálculos.



ACTIVIDADES

1. Realice los siguientes cálculos.

- 15 km = m
- 3 minutos = segundos
- 7835 cm = m
- 4800 minutos = horas

MECÁNICA

Seguramente escuchó o empleó muchas veces en su vida la palabra "mecánica" ¿Podría decir qué significado tiene esta palabra para usted?

.....

.....

.....

CONOCIMIENTOS QUE ABORDA

Desde las ciencias naturales diremos que la mecánica es la rama de la física que se ocupa del estudio del movimiento de los objetos. Cuando hablamos de movimiento debemos tener en cuenta, de una manera muy especial, magnitudes tales como:

- el desplazamiento,
- el tiempo,
- la velocidad,
- la aceleración,
- la masa y
- la fuerza.

Los sistemas de referencia nos sirven para medir las posiciones y decir qué cosas se mueven y qué cosas están quietas respecto de ellos.

Si un pasajero se levanta de su asiento y camina hacia el conductor, se está moviendo respecto del colectivo, porque cambia su posición dentro del colectivo. El sistema de referencia del colectivo sirve para **ubicar** los objetos, darles su **posición**.

Por ejemplo, podemos indicar la posición de un pasajero en colectivo diciendo que está en el tercer asiento de la ventanilla derecha, contado desde el fondo del colectivo. También podemos dar la ubicación de ese pasajero contando a cuántos metros está del fondo del colectivo y a cuántos del borde derecho. En general, para ubicar los pasajeros necesitaremos dos datos, ya que suelen estar todos sobre el piso del colectivo (por lo tanto el dato de la altura de su ubicación no es importante). Podemos ubicarlos en un sistema de dos coordenadas.



ACTIVIDADES

1. Analice la siguiente situación. Cuando un pasajero camina por el colectivo, su posición respecto del colectivo: ¿cambia o se mantiene constante?

.....


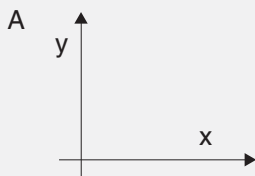
En general nos referiremos a un sistema de coordenadas. Pudiendo tomar un solo eje (x) si el movimiento es **unidimensional**, dos ejes (x; y) si se desarrolla en un plano, o en los tres ejes (x; y; z) si estamos en el **espacio**.

Observe los gráficos A y B:



ACTIVIDADES

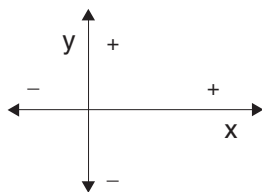
1. Diga si corresponde a un movimiento unidimensional o bidimensional:



.....

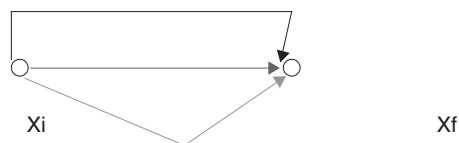
.....

En general, los ejes que más se emplean para representar movimientos son los ejes que representan movimientos **bidimensionales**



Distancia y desplazamiento

Consideremos ahora que un objeto está en una posición inicial X_i en el instante inicial T_i (tiempo) y pasa a la posición final X_f , en el instante final T_f . Este objeto para llegar a la posición final partiendo de la inicial pudo realizar cualquier recorrido, en línea recta (que es el mínimo) o cualquier otro, tal como muestra la figura.



La **distancia recorrida** entre esas posiciones depende de la **trayectoria**, que es el camino recorrido por el móvil. Esta es una **magnitud escalar**.

Sin embargo, el **desplazamiento** realizado por el móvil está dado por la diferencia entre la posición final e inicial del mismo.

Observemos los siguientes símbolos:

ΔX : Variación de la posición

X_i : Posición inicial

X_f : Posición final

Para explicar el desplazamiento en una fórmula, diremos:

$$\Delta X = X_f - X_i$$

No importa el recorrido realizado sino el cambio ocurrido entre la posición final respecto de la inicial. El desplazamiento es una **magnitud vectorial**.

Ese **desplazamiento** será **positivo** si fue hacia la derecha o **negativo** en caso contrario.

El siguiente gráfico muestra el desplazamiento que realizó el móvil y el tiempo que empleó en hacerlo.



bidireccionales

Estos ejes reciben el nombre de **ejes cartesianos ortogonales**, tomando al eje horizontal o de abscisas (x) como positivo hacia a la derecha y el eje vertical u ordenada (Y), positivo hacia arriba.



magnitud escalar

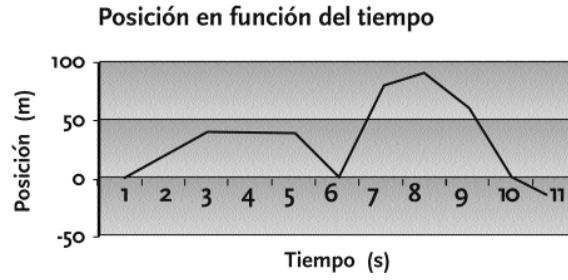
Se mide y se expresa con un número y una unidad para medir, por ejemplo: 5m o 3cm.



magnitud vectorial

Además de expresarla con un número y una unidad para medir, se debe agregar la dirección y el sentido. Por eso se representa con un vector. Por ejemplo: "la fuerza con que se empuja un auto es de 50N".

NOTAS



El desplazamiento se realizó en un intervalo de tiempo.

Siendo:

Δt = intervalo de tiempo

t_i = tiempo inicial

t_f = tiempo final

Calcule el desplazamiento y la distancia recorrida del gráfico para los siguientes intervalos

- a) entre 0 y 5.5 segundos
- b) entre 0 y 11 segundos
- c) entre 0 y 8 segundos
- d) entre 5.5 y 10 segundos

Le ayudamos con el primer ejercicio:

a)

*Desplazamiento:

$$\Delta X = X_f - X_i$$

Entonces:

$$\Delta X = 25 - 0$$

$$\Delta X = 25m$$

El desplazamiento del móvil fue de 25m.

*Distancia:

En ese mismo período de tiempo el móvil recorrió una distancia de 70 m aproximadamente

¡No olvide trabajar con el gráfico!



ACTIVIDADES

1. Ahora trabaje usted solo...

b)

La rapidez de la camioneta es de 50 km por hora.

Cualquier combinación de unidades de distancia y tiempo puede ser útil para expresar una **rapidez** y elegiremos según la conveniencia.

Por ejemplo, usaremos kilómetros por hora para el movimiento de los autos y kilómetros por segundo para el movimiento de las naves espaciales y los satélites. En general utilizaremos metros por segundo (m/s) si no hay otra combinación más útil. En la tabla siguiente indicamos la **rapidez** aproximada de los siguientes movimientos.

Tipo de movimiento	Rapidez
Caminata	4 km/hs
Caracol	0.1m/min
Tortuga	10m/min
Paracaidista	11000 km/h



ACTIVIDADES

1. Exprese los valores de la tabla en m/s

Caminata m/s
Caracol m/s
Tortuga m/s
Paracaidista m/s

Cuando viajamos por la ruta, el movimiento suele tener distinta rapidez en diferentes tramos del camino.

Así, podemos apurarnos cuando hay un tramo recto, ir más lento en las curvas o detrás de los camiones e incluso parar un rato para tomar algo.

La rapidez que tenemos en cada instante es la **rapidez instantánea** y es la que marca el velocímetro. Sin embargo, al llegar al lugar de destino solemos hacer la cuenta de cuál fue nuestra **rapidez promedio** o **rapidez media**.

Definimos como **rapidez media** o **promedio** al cociente entre la distancia total recorrida y el tiempo que tardó en recorrerla.

$$\text{rapidez media} = \frac{\text{distancia total recorrida}}{\text{tiempo transcurrido}}$$

La rapidez es una magnitud escalar.



ACTIVIDADES

1. Complete las siguientes afirmaciones:

a) Si queremos saber cuál es la rapidez instantánea de un móvil debemos:

.....

b) Si queremos saber cuál es la rapidez media o promedio de un móvil debemos:

.....

2. Responda:

a) ¿Por qué decimos que la rapidez es una magnitud escalar?

.....

Velocidad

NOTAS

Ahora bien, ¿cree usted que rapidez es lo mismo que velocidad? ¿Por qué?

.....

En general decimos que la **velocidad** del automóvil es de 100 km/h o que la velocidad de un avión es de 1.000 km/h y en el lenguaje habitual no hacen falta más aclaraciones.

.....

Sin embargo, si queremos indicar en qué **dirección** se mueve el avión o en qué **sentido** de la autopista está andando un automóvil, hacen falta más datos que los anteriores.

.....

Por eso en el lenguaje de la física distinguimos **rapidez de velocidad**. En realidad, los datos anteriores se referían a la **rapidez** y no decían nada sobre la **dirección** y **sentido** del movimiento.

.....

Cuando en la descripción incluimos la **dirección** y el **sentido** además de la **rapidez** estamos dando la **información** de la **velocidad** del movimiento.

.....



RECORDAR

Para varias magnitudes físicas la dirección y el sentido tienen importancia, como en el caso de la velocidad. Otro caso es el de la fuerza. No basta con saber que se aplica una fuerza de cierta intensidad sobre una mesa, necesitamos saber si es para levantarla o para arrastrarla. A estas magnitudes se las llama "**magnitudes vectoriales**".

En cambio, a las magnitudes que no tienen dirección y sentido se las llama "**magnitudes escalares**". Por ejemplo, la rapidez, el tiempo y el volumen son escalares.

Ahora definiremos una nueva magnitud llamada **velocidad media o promedio**, como el cociente entre el desplazamiento y el tiempo transcurrido.

$$\text{velocidad media} = \frac{\text{desplazamiento}}{\text{tiempo transcurrido}}$$

Es decir:

$$V = \frac{\Delta x}{\Delta t}$$

La **velocidad** es una **magnitud vectorial** ya que el desplazamiento también lo es.



RECORDAR

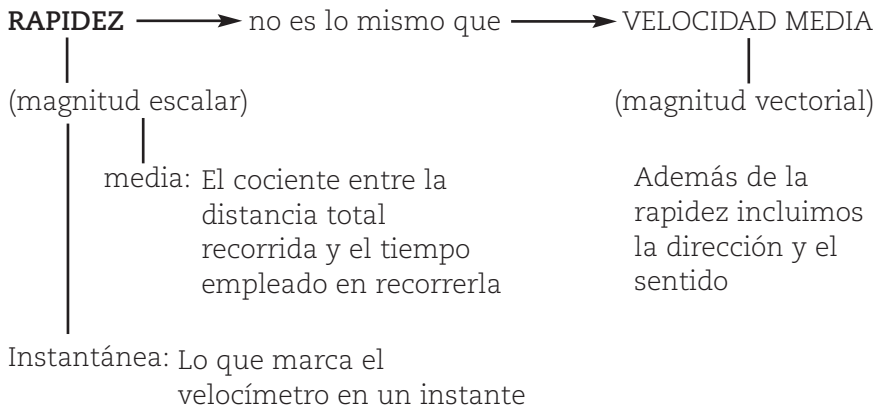
No olvide que hay una diferencia importante entre la **distancia total recorrida** y el desplazamiento. La primera es todo lo que ha recorrido el objeto, mientras que el **desplazamiento sólo depende de su posición inicial y final**.

Por ejemplo: si camino en línea recta tres cuadras y luego regreso, la distancia total recorrida fue de seis cuadras, pero mi desplazamiento fue nulo ya que el punto de partida y de llegada es el mismo. Si tardé en caminar las seis cuadras tres minutos puedo calcular la rapidez media como:

$$\text{Rapidez} = \frac{6 \text{ cuadras}}{3 \text{ minutos}} = 2 \text{ cuadras / minuto}$$

mientras que la velocidad media fue cero al no haber desplazamiento.

Repasemos:



NOTAS

La unidad, tanto para la velocidad como para la rapidez, en el sistema internacional (SI) es el "metro por segundo" $[m / s]$.

Hay otras unidades muy utilizadas en los distintos ambientes: kilómetros/hora, millas/hora, nudos, centímetros/segundo, etc.

Otro ejemplo para ayudar a la comprensión. Una lancha deportiva realiza un movimiento de zigzag entre las boyas, mientras que otra lancha la va filmando. La lancha deportiva va cambiando su velocidad continuamente para poder pasar entre las boyas, mientras que la lancha con los camarógrafos sigue una trayectoria con velocidad constante. Ambas lanchas tienen la misma velocidad promedio entre el comienzo de la prueba y el final, pero, la de los camarógrafos se mantuvo siempre con la misma velocidad instantánea, mientras que la deportiva no.

Como la **rapidez** no tiene dirección no lleva signo positivo o negativo, mientras que la **velocidad** sí. Para la velocidad el signo negativo indica que el desplazamiento es en el sentido contrario al definido en el sistema de referencia como positivo, ya que el tiempo transcurrido se considera siempre positivo. En el caso dado, **unidimensional**, el signo más indicaría positivo hacia la derecha y el menos hacia la izquierda.

Como las **posiciones son relativas** al sistema de referencia que elegimos, **las velocidades también van a ser relativas** a ese sistema.

Representación del movimiento

Los **vectores** son muy útiles para la descripción del **movimiento**. Cuando un navegante quiere saber cuál es el verdadero rumbo de su barco tiene que tener en cuenta la influencia de la corriente. Para resolverlo le basta con hacer un diagrama de los vectores **velocidad del barco respecto del agua y velocidad de la corriente respecto de la costa**. Luego los suma

NOTAS

.....

.....

.....

.....

.....

.....

.....

.....

.....

.....

.....

.....

.....

.....

.....

.....

.....

.....

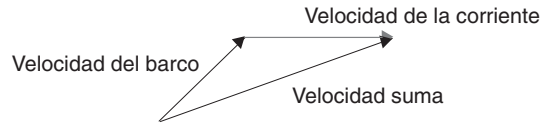
.....

.....

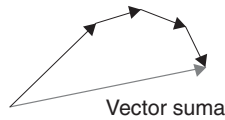
.....

gráficamente y obtiene el vector **velocidad suma** (que es la velocidad del barco respecto de la costa) en la dirección adecuada.

Sumar **vectores** gráficamente es muy fácil. Coloque uno de los vectores a continuación del otro, respetando su orientación. Luego la suma será un nuevo vector desde el **comienzo del primero hasta el final del segundo**.



Si tiene que sumar muchos vectores, puede colocarlos uno a continuación del otro formando una cadena de vectores (que se llama poligonal porque tiene varios lados) y la suma de todos ellos será un vector desde el comienzo del primero hasta el final del último.

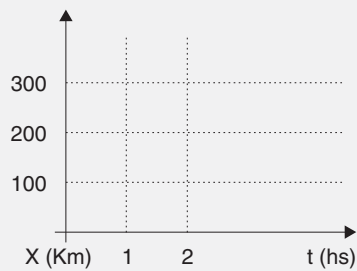


ACTIVIDADES

1. Resuelva la siguiente situación.

Un automóvil viaja a 120 km/h Calcule el espacio que ha recorrido para los tiempos de la tabla y grafique los resultados en el diagrama.

tiempo	espacio
30 minutos
1 hora
2 horas



a) Expresar la rapidez del automóvil del problema anterior en m/s.

.....

2. ¿Qué mide el velocímetro de un auto? ¿La rapidez promedio o la instantánea?

.....

3. La rapidez de la luz es de 300.000 km/s y la distancia entre el Sol y la Tierra es de 150 millones de kilómetros. Cuando ve el atardecer le llega una imagen del Sol. ¿Hace cuántos minutos que esa imagen partió de nuestra estrella?

.....

4. Dibuje los vectores velocidad de dos automóviles que se cruzan, en la ruta y van con la misma rapidez.

5. Un camión viaja con rapidez constante. Dibuje el vector velocidad en tres puntos de una curva del camino.

6. El capitán mantiene el barco apuntando al Norte, pero la corriente va en dirección al Este.

a) ¿Cuál es el rumbo que sigue el barco si la velocidad de la corriente es igual a la del barco?

.....

b) Dibuje los vectores velocidad y súmalos gráficamente.

c) Si la rapidez del barco y la corriente es de 4 km/h ¿Cuál es la rapidez resultante?

.....

7. Cuando el capitán del barco se dio cuenta que había tanta corriente, aumentó la rapidez del barco al doble y apuntó la proa del barco en dirección al noroeste.

a) Grafique los vectores y encuentre la dirección final en que se desplaza el barco.

.....

b) Indique si el barco se desvía hacia el Oeste, hacia el Este o si puede navegar directo hacia el Norte.

.....

NOTAS

Aceleración

Seguramente muchas veces estuvo en contacto con la "aceleración": tuvo que acelerar su vehículo o fue testigo de la aceleración de un taxi o del colectivo en sus recorridos diarios.

También es probable que amigos o familiares le hayan dicho alguna vez: -¡no estés tan acelerado!

La aceleración aparece continuamente en nuestra vida, pero ¿qué entiende Ud. por "aceleración"?

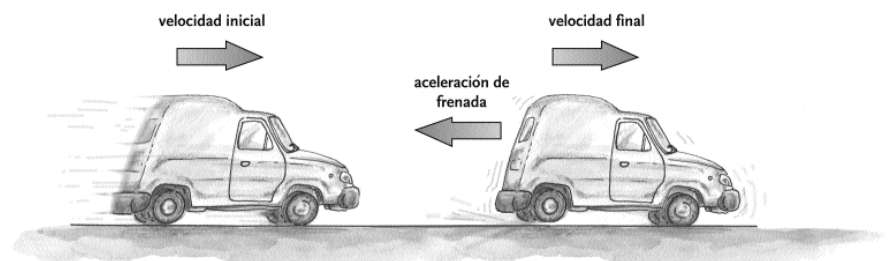
Estamos muy acostumbrados a ver cambiar la rapidez de un movimiento o la dirección del movimiento: vemos que cuando un paracaidista salta del avión cae cada vez con mayor rapidez hasta que se abre el paracaídas y que cuando el semáforo se pone en verde los motores rugen para ganar velocidad y luego detenerse al acercarse a un semáforo en rojo. Asimismo la Luna viaja constantemente alrededor de la Tierra y para eso tiene que cambiar la dirección de su movimiento también constantemente. Resulta entonces que no sólo hay cambios en la naturaleza sino que también hay cambios en la velocidad con que ocurren esos cambios.

A todo cambio del estado de movimiento, ya sea en su dirección o su rapidez, lo llamamos aceleración.

La aceleración es la tasa de cambio de la velocidad, es decir, el ritmo con que va cambiando la velocidad en el tiempo.

Si un perro da vueltas alrededor nuestro, la dirección de su movimiento está cambiando; si se detiene, su rapidez está cambiando; si está quieto y comienza a correr, también su rapidez cambia.

Calculamos la aceleración como la proporción (o cociente) entre lo que ha cambiado la velocidad y el tiempo que le llevó cambiar.



Cuando la velocidad del móvil cambia, ya sea en su magnitud, dirección o en ambas, decimos que se está acelerando. La aceleración nos indica el cambio de la velocidad.

- Una moto circula a una velocidad de 55km/h. Al cabo de una hora lo hace a 70km/h:

a) ¿Su aceleración será positiva o negativa?

.....

b) ¿Qué valor tiene esa aceleración?

.....

- Un colectivo viaja a 100km/h. Luego de una hora lo hace a 85km/h:

a) ¿Su aceleración será positiva o negativa?

.....

b) ¿Qué valor tiene esa aceleración?

.....

SECUENCIA N° 2


LAS REACCIONES QUÍMICAS EN LA NATURALEZA

EL ÁTOMO

PARTÍCULAS SUBATÓMICAS

Todos los elementos están formados por átomos. ¿Recuerda qué es el átomo?

.....

materia 

Es todo aquello que tiene masa y ocupa un lugar en el espacio.

El átomo es la menor porción de **materia** capaz de combinarse. Es invisible a nuestros ojos. ¿Cómo se llamaban las pequeñísimas partículas que lo formaban?

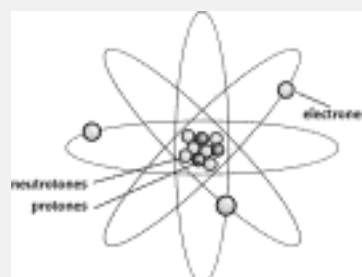
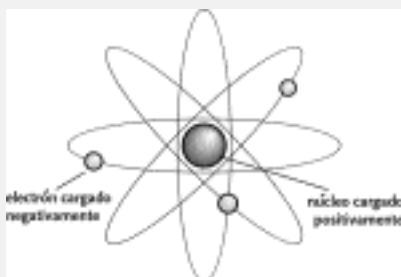
.....

Dijimos que íbamos a considerar a un átomo formado por tres partículas fundamentales: los protones, los neutrones y los electrones.



ACTIVIDADES

1. Observe dos representaciones de un átomo y complete los siguientes párrafos:



El **átomo** posee un **núcleo** o parte central, donde se encuentran los y los, y, una **zona periférica**, donde están ubicados los

- En el se encuentran ubicados los protones y los neutrones.

- **Protones (p+)**: tienen carga Su masa relativa es 1. Se considera como partícula pesada.

- **Neutrones (n°)**: no tienen carga eléctrica. Su masa relativa es, igual que la del protón.

- Zona periférica: donde se encuentran los

- **Electrones (e-)**: tienen carga eléctrica Su masa relativa es tan pequeña que no se la tiene en cuenta. Se consideran partículas livianas.

El átomo es eléctricamente neutro y por lo tanto, como las partículas subatómicas que poseen carga son los....., con carga positiva, y los, con carga negativa, podemos decir que el átomo tiene: igual número de que de

VALORES QUE IDENTIFICAN A LOS ÁTOMOS. NÚMERO ATÓMICO Y NÚMERO MÁSIICO

ACTIVIDADES



1. ¿Los átomos de todos los elementos serán iguales? ¿Qué los diferencia? ¿Todos presentan el mismo número de protones y de electrones?

.....

2. Todo átomo se identifica por dos números: el número atómico y el número másico. ¿Recuerda qué es el número atómico?

.....

Al número atómico se lo representa por la letra Z. Es el número de protones que tiene un átomo.

Z = número de protones

NOTAS

Como vimos que el átomo es eléctricamente neutro, el número de protones (Z) señala también el número de electrones.

$$p^+ = e^-$$

¿Y el número másico?

El número másico se representa con la letra A y nos indica la cantidad de protones y de neutrones que posee un átomo.

Es decir: $A = p^+ + n^0$

Veamos una aplicación:

Para el átomo de cloro el $Z = 17$ y el $A = 35$

Lo representamos así:



Como $Z = 17$ significa que tiene 17 protones, y como el átomo es neutro podemos concluir que tiene 17 electrones.

Además sabemos que:

$$A = 35, \text{ y } A = p^+ + n^0$$

Si despejamos n^0 de la ecuación nos da:

$$n^0 = A - p^+$$

Para el cloro $n^0 = 35 - 17$, entonces $n^0 = 18$.

Por lo tanto el átomo de cloro tiene 17 protones, 17 electrones y 18 neutrones.

¿Se anima a determinar la cantidad de protones, electrones y neutrones que posee el átomo de sodio?

Para el átomo de sodio el $Z = 11$ y el $A = 23$.

Lo representamos así: ${}^{23}_{11}\text{Na}$

Como $Z = \dots$, significa que tiene \dots protones, y como el átomo es \dots tiene \dots electrones.

Además sabemos que:

$$A = \dots, \text{ y que } n^0 = A - p^+$$

$$n^0 = \dots$$

Por lo tanto el átomo de sodio tiene protones, electrones y neutrones.

TABLA PERIÓDICA

Como ya vimos, todos los elementos que existen en la naturaleza se encuentran ordenados en la tabla periódica. Si pudiésemos realizar una comparación podríamos decir que la tabla periódica para los químicos es como los mapas para los geógrafos.

Nota: La IUPAC propone numerar los grupos del 1 al 18, notación que adoptaremos de aquí en adelante.

Pero, ¿cómo están ordenados en la tabla?

En la tabla periódica los elementos se encuentran en orden creciente de su número atómico.

Por otra parte, los elementos que son **metales** se encuentran ubicados a la izquierda de una línea diagonal escalonada, próxima al extremo derecho; los **no metales** se encuentran a la derecha de esta línea; y los gases nobles, raros o inertes se encuentran ubicados en el grupo 18.

El siguiente esquema de la tabla periódica le indica dónde están ubicados los metales, los no metales y los gases nobles.

?

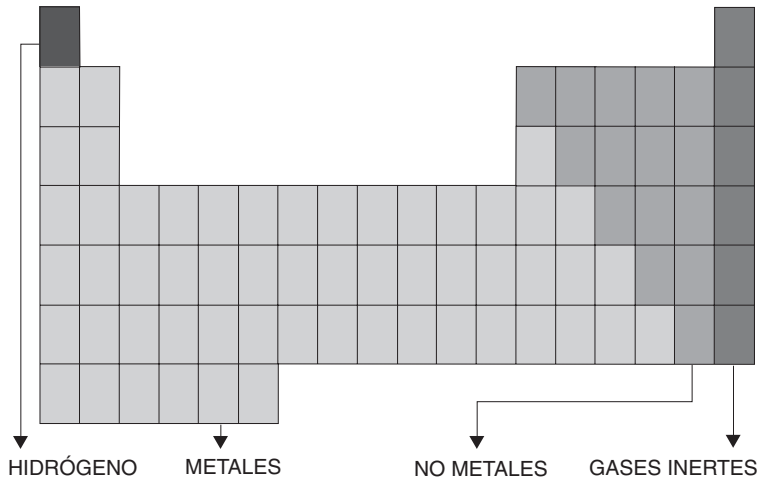
metales

Se caracterizan porque poseen un brillo característico, llamado *brillo metálico*; son buenos conductores del calor y de la electricidad; son maleables (se los puede trabajar formando láminas) y dúctiles (se los puede estirar generando hilos). A temperatura de ambiente, su estado físico es sólido, con excepción del mercurio, que es líquido. Ejemplo: cobre, oro, plata, hierro.



no metales

Son malos conductores del calor y de la electricidad (con excepción del grafito). No son maleables ni dúctiles. A temperatura de ambiente, su estado físico puede ser sólido (como el azufre), líquido (como el bromo) o gaseoso (como el oxígeno). Ejemplo: carbono, nitrógeno, fósforo.



ACTIVIDADES

1. Busque en la tabla el átomo de cloro.

Lo ayudamos diciéndole que es un no metal y por lo tanto se encuentra a la derecha de la tabla periódica.
¿Cuál es su número atómico?

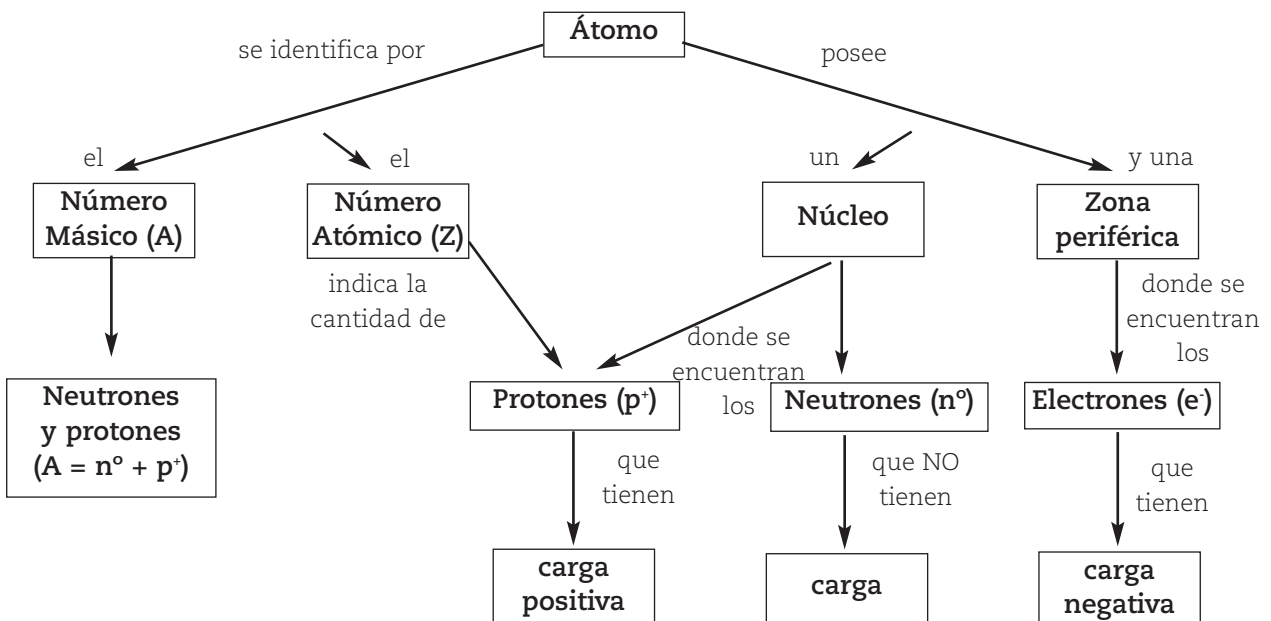
.....

2. Como habíamos visto para el átomo de cloro: $Z=17$. ¿Coincide este dato con el que usted encontró? Si no es así, revíselo.

Busque el átomo de sodio en la tabla periódica. ¿Cuál es su número atómico?

.....

Hasta ahora hemos repasado que:



DISTRIBUCIÓN DE LOS ELECTRONES EN UN ÁTOMO



ACTIVIDADES

1. Vimos que todo átomo tiene tres partículas subatómicas fundamentales:, los protones, los neutrones y los electrones. ¿Por medio de cuál de estas tres partículas subatómicas se podrán unir los átomos?

.....

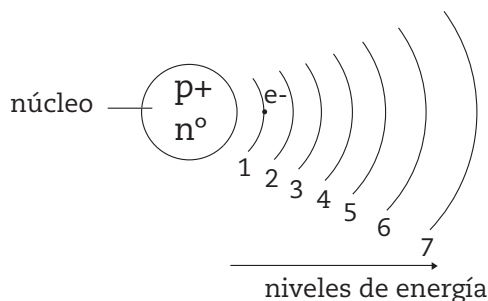
Lógicamente mediante los electrones, ya que se encuentran en la zona periférica.

Todos los electrones que tiene un átomo no tienen la misma **energía**; los más alejados al núcleo tienen mayor energía.

Los electrones se ubican alrededor del núcleo en distintos niveles de energía, nombrados por los números enteros 1, 2, 3, 4, 5, 6 y 7.

El nivel 1 es el que se encuentra más cerca del núcleo, y a medida que es mayor el número el nivel está más alejado del núcleo.

Veamos una representación muy simplificada (NO REAL) de lo que hemos dicho:



Pero, ¿cuántos electrones hay en cada nivel?

Para determinarlo se usa una fórmula que indica que la cantidad de electrones posibles en un nivel es igual a $2 \times n^2$, donde n es el número del nivel.

Si $n = 1$, quiere decir que nos estamos refiriendo al nivel 1.

Aplicando la fórmula $2 \times n^2$ vemos que: $2 \times 1^2 = 2 \times 1 = 2$ electrones.

En el nivel 1 podemos tener 2 electrones como máximo.

Si $n= 2$, es decir nivel 2, aplicando la fórmula $2 \times n^2$ vemos que:

$2 \times 2^2 = 2 \times 4 = 8$ electrones.



energía

Es la capacidad que tiene un sistema de producir un cambio o una transformación en sí mismo o en otro sistema.

NOTAS

.....

NOTAS

En el nivel 2 podemos tener 8 electrones como máximo.

Ahora, usted complete los valores para el nivel 3 y 4.

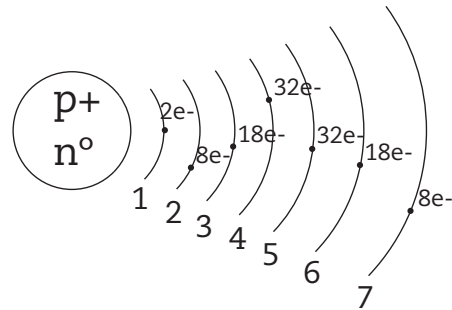
Si $n= 3$, nivel 3; aplicando la fórmula $2 \times n^2$ vemos que:
 $2 \times \dots^2 = 2 \times \dots = \dots$ electrones.

En el nivel 3 podemos tener electrones como máximo.

Si $n= 4$, nivel 4; aplicando la fórmula $2 \times n^2$ vemos que:
 $2 \times \dots = 2 \times \dots = \dots$ electrones.

En el nivel 4 podemos tener electrones como máximo.

Volviendo a la representación que hicimos recién y agregándole la cantidad de electrones que teóricamente podemos tener por nivel:



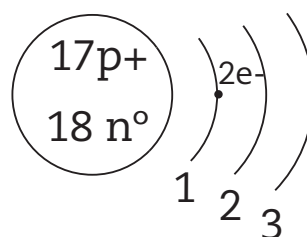
Es como si tuviéramos un edificio de 7 pisos en el que cada uno de los pisos serían los niveles: el de abajo es el nivel 1, el siguiente el dos y así sucesivamente. Las personas, que se encuentran en movimiento, serían los electrones: en el primer piso (nivel 1) puede haber 2 personas; en el 2 piso (nivel 2) puede haber 8 personas, y así siguiendo.

Sabíamos que el cloro tiene 17 protones, 17 electrones y 18 neutrones.

Los 17 protones y los 18 neutrones se encuentran en el núcleo y los 17 electrones se ubican alrededor del núcleo, girando en los distintos niveles de energía.

Pero, ¿cómo están ubicados?

Para el cloro tenemos 17 electrones. En el nivel 1 podemos ubicar nada más que 2 y los colocamos en el nivel 1.





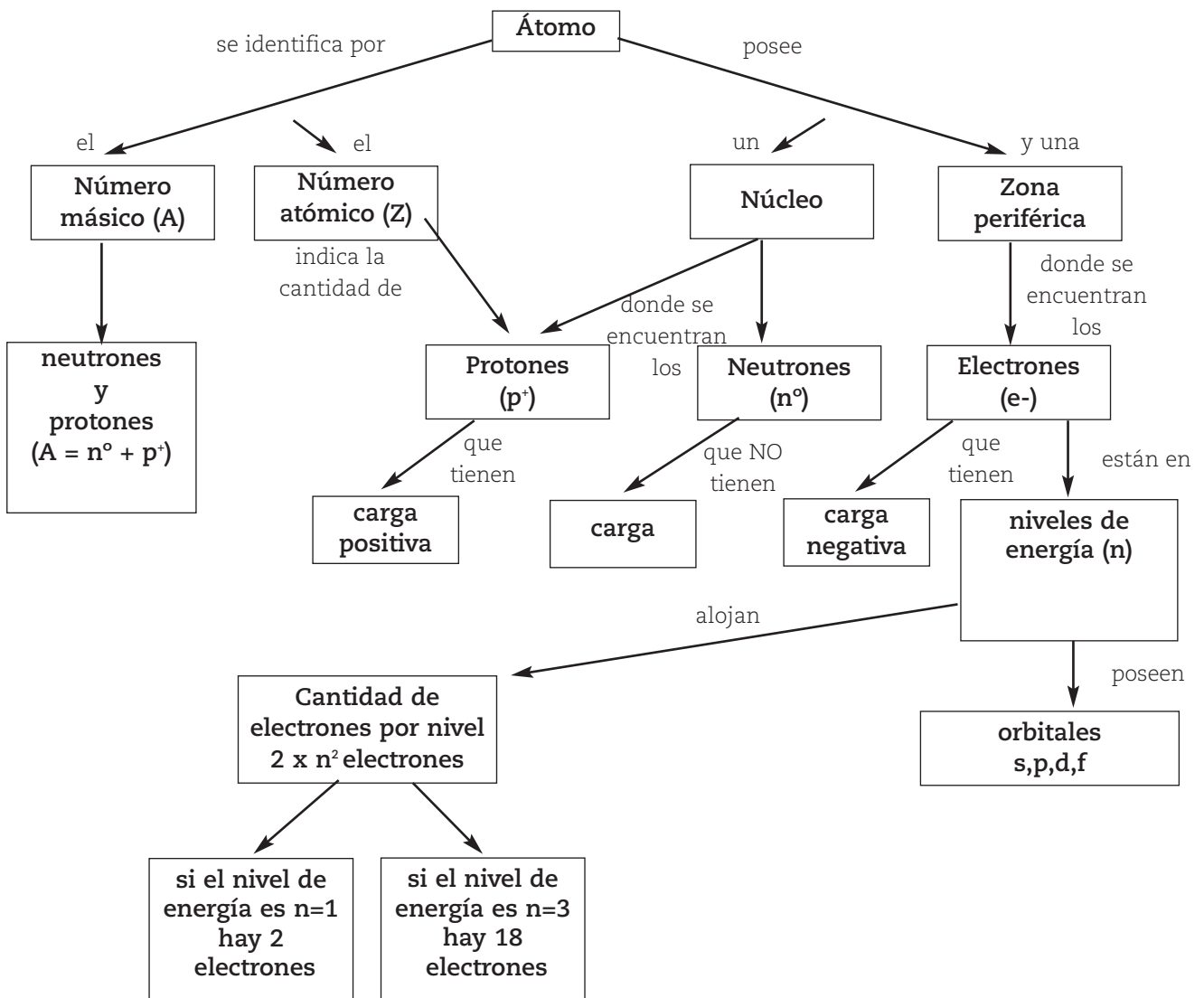
orbitales
 Zona del espacio alrededor del núcleo donde es más probable encontrar a un electrón.

En los subniveles se encuentran los **orbitales**. Un orbital atómico puede tener como máximo 2 electrones.

Continuando con la comparación del edificio, cada piso (nivel) puede tener distintos tipos de departamentos (subniveles) y en cada departamento puede haber distintos tipos de habitaciones (orbitales) que son para dos personas (electrones). Es como si tuviéramos un edificio de 7 pisos, cada uno de los pisos serían los niveles, el de abajo es el nivel 1, el siguiente el dos y así sucesivamente. Las personas, que se encuentran en movimiento serían los electrones, en el primer piso (nivel 1), puede haber 2 personas; en el 2 piso (nivel 2), puede haber 8 personas, y así siguiendo.

De todos los electrones que posee un átomo son los electrones que se encuentran en el último nivel de energía los que se unirán con otros para formar un compuesto.

Lea el siguiente mapa conceptual que integra los conceptos repasados.



UNIONES ENTRE ÁTOMOS: UNIONES O ENLACES QUÍMICOS

Retomando lo que estábamos estudiando...de todos los electrones que posee un átomo, **los electrones que se encuentran en el último nivel de energía son los que se unirán con otros para formar un compuesto.** Los científicos han elaborado distintos modelos de cómo se unen estos electrones para formar un compuesto. Han observado que los gases nobles tienen el último nivel de energía completo (con la máxima cantidad de electrones posibles) y prácticamente no forman compuestos, es decir, son químicamente inertes. Por ello han supuesto que cuando un átomo se une con otro tiende a tener la misma cantidad de electrones que el gas noble que se encuentra más cercano en la tabla periódica. ¿Cómo puede hacer para ello? Ganando, perdiendo o compartiendo electrones con otro átomo. Depende del tipo de átomo y de si gana, pierde o comparte electrones, el tipo o la forma de **unión** que se establecerá entre ellos. De acuerdo con el tipo de unión que posea un compuesto será su comportamiento.

REACCIONES QUÍMICAS

LEER



Cuando dos átomos se unen forman un compuesto o **sustancia** compuesta.

Si ponemos en contacto dos o más sustancias simples o compuestas pueden producir un cambio químico.

Vivimos en un mundo cambiante; permanentemente se producen en la naturaleza cambios físicos y cambios químicos.

Cuando la materia no se transforma en otra distinta, con distintas propiedades, estamos frente a un cambio físico (por ejemplo cuando estiramos un alambre).

¿Puede dar otros ejemplos de cambios físicos?

.....

En cambio, cuando hay una transformación en la materia - como el ejemplo de la combustión del gas natural- hablamos de un cambio químico.

Piense y escriba otros ejemplos de cambios químicos:

.....



unión o enlace químico

Unión o enlace químico: es la forma de unión entre átomos para formar compuestos. La unión puede ser iónica, covalente o metálica.



sustancia

Es el tipo de materia. Las sustancias pueden ser simples (formadas por átomos iguales) o compuestas (formadas por átomos distintos).

Todo cambio químico implica una reacción química.



ACTIVIDADES

1. De la siguiente lista de cambios subraya aquellos que sean cambios químicos:

- Agua en ebullición.
- Combustión de la madera.
- Oxidación de un clavo.
- Estiramiento de un alambre.

NOTAS

¿Qué hacemos si queremos calentar agua en una pava?

Vamos a la cocina y prendemos la hornalla.

Al encender el gas, lo que estamos logrando es que el gas natural (formado en más de un 90 % por un compuesto llamado metano) reaccione con el oxígeno del aire.

Es decir, ponemos en contacto dos sustancias (el metano y el oxígeno) y se produce una reacción química. Durante la reacción se libera energía, que la aprovechamos para calentar el agua de la pava.

Esta reacción se denomina **combustión**.

Una reacción química se produce cuando una o más sustancias se transforman en una o más sustancias diferentes. Las sustancias iniciales se llaman reactivos o sustancias reaccionantes y las sustancias que se obtienen se denominan productos de la reacción.



En el caso del ejemplo dado, la combustión del metano,:

- Las sustancias reaccionantes son: el metano (proveniente del gas natural) y el oxígeno del aire,
- Los productos de la reacción son: dióxido de carbono y vapor de agua (si la combustión es completa).

Las reacciones químicas se expresan mediante ecuaciones químicas.

Para escribir una ecuación química se colocan a la izquierda las sustancias reaccionantes, luego, una flecha que se lee "se transforma/n" y, finalmente, a la derecha los productos de la reacción.

Sustancias reaccionantes \longrightarrow Productos de la reacción

Esto se lee: las sustancias reaccionantes se transforman en los productos de la reacción. Para el ejemplo mencionado podemos escribir:

Metano (del gas natural) + oxígeno (aire) \longrightarrow dióxido de carbono + vapor de agua

En este caso leemos: el metano proveniente del gas natural reacciona con el oxígeno del aire y QUE se transforman en dióxido de carbono y vapor de agua.

En una reacción química se produce sólo una reubicación de todos los átomos presentes. Es como si se desarmaran las uniones de los reactivos y se armaran las uniones de los nuevos productos.

¿Sabía que?...

La ley de conservación de la masa indica que en la tierra los átomos existentes se unen y desunen para formar nuevas sustancias, sin modificar en cantidad o masa al número de átomos.

NOTAS

.....

.....

.....

.....

.....

.....

.....

.....

.....

.....

.....

.....

.....

.....

.....

.....

.....

.....

.....

.....

.....

.....

.....

.....

.....

.....

.....

.....

.....

.....

.....

.....

ACTIVIDADES



1. Supongamos que reaccionan 100 gramos de metano con 400 gramos de oxígeno. Si aplicamos la ley de conservación de la masa, ¿qué cantidad total de dióxido de carbono y agua se obtendrá?

.....

Sigamos con las reacciones químicas.

Cuando clasificó los cambios en químicos y físicos seguramente subrayó a la combustión de la madera y a la oxidación de un clavo, ya que son cambios químicos y, en consecuencia, reacciones químicas.

En el caso de estas dos reacciones químicas:

¿Cómo se dio cuenta que se había producido una reacción química?

¿Son naturales?

NOTAS

¿Ocurren a la misma velocidad?

¿Son iguales?

La evidencia de que se ha producido una reacción química es la formación de nuevas sustancias con propiedades distintas a las que le dieron origen.

En el caso de la combustión de la madera, las sustancias iniciales eran la madera y el oxígeno del aire y los productos de la reacción, las cenizas y los gases que se forman. Las propiedades de la madera y del oxígeno (sustancias reaccionantes) son distintas a las propiedades de las cenizas y los gases que se forman (los productos de la reacción).

Veamos otros ejemplos:

Si está comiendo una manzana y decide dejarla expuesta al aire, ¿qué le sucede?

Seguramente habrá observado que se forma una sustancia marrón. Esto nos demuestra que se ha producido una reacción química.



ACTIVIDADES

1. Si dejó un vaso con leche fuera de la heladera durante 10 horas, ¿qué sucede?, ¿cómo sabemos que se produjo una reacción química?

Volvamos a los dos primeros ejemplos. En la oxidación de un clavo, ¿esta reacción se produce naturalmente?, ¿y en el caso de la combustión del gas natural?

Hay reacciones químicas que se producen naturalmente, por ejemplo cuando se oxida el hierro expuesto al aire húmedo, y otras que se producen artificialmente como por ejemplo cuando se trata al petróleo para obtener plásticos.



ACTIVIDADES

1. Nombre cuatro reacciones químicas que usted conozca e indique cuáles se producen naturalmente y cuáles artificialmente.

.....

.....

.....

2. Y si pensamos en el tiempo que se demora en oxidarse el clavo, ¿cómo es?

.....

.....

En la naturaleza las reacciones químicas ocurren a distinta velocidad.

Algunas son muy rápidas: como cuando ocurre una explosión.

Otras son muy lentas: como la transformación de los minerales de las rocas.

ACTIVIDADES



1. Ordene las reacciones que usted nombró según la velocidad a la que se producen, desde las más rápidas a las más lentas.

.....

.....

.....

REACCIONES QUÍMICAS EN LA NATURALEZA

Muchos procesos que ocurren en la naturaleza o en los seres vivos son un tipo especial de reacción química llamadas reacciones de **óxido-reducción**, como la corrosión de los metales, la respiración, la fotosíntesis y la fermentación.

Sigamos trabajando con el ejemplo del clavo. Alguna vez habrá dejado clavos afuera, a la intemperie o guardados en un armario; si los busca, ¿cómo cree que los encontrará?

.....

.....

.....

Seguramente se encuentren herrumbrados (u oxidados o

reacciones de óxido-reducción



Es cuando en una reacción química hay átomos que pierden electrones y otros que los ganan. A la pérdida de electrones se la denomina oxidación, mientras que la ganancia de electrones se llama reducción.

corroídos). Este es un ejemplo de reacción química que se produce en la naturaleza y que hemos nombrado en varias ocasiones: la corrosión.



ACTIVIDADES

1. Responda las siguientes preguntas:

a) *¿De dónde proviene el óxido?, ¿qué sustancias lo forman?, ¿interviene el oxígeno en la formación del óxido?*

.....
.....
.....

b) *¿Qué le pasó al clavo?, más específicamente ¿qué le pasó al hierro, sustancia de la cual está formado el clavo?*

.....
.....
.....

NOTAS

.....
.....
.....
.....
.....
.....
.....
.....
.....
.....
.....
.....
.....
.....
.....
.....
.....
.....
.....
.....
.....
.....
.....

El hierro (Fe) reacciona con el oxígeno (O₂) que proviene del aire y forma una sustancia nueva, que posee propiedades distintas, el óxido férrico (Fe₂O₃, herrumbre).

¿Cuáles son las sustancias reaccionantes y cuáles son el producto de la reacción?

.....
.....
.....

El hierro y el oxígeno son las sustancias reaccionantes, que con el tiempo se han transformado en otra distinta -el óxido férrico- producto de la reacción.

Para comprobar que son sustancias distintas podemos hacer lo siguiente: acerque un imán a un clavo de hierro sin herrumbre y observe si es atraído. Posteriormente realice lo mismo, pero utilizando un clavo herrumbrado.

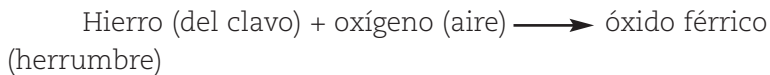
¿Qué observó?

.....
.....
.....

Efectivamente, tal como observó, el clavo herrumbrado no atrae al imán, mientras que el otro, sí.

Esto nos muestra que se produjo un cambio o reacción química. Partimos de sustancias con características propias (el hierro y el oxígeno) y obtuvimos otra sustancia con distintas propiedades (el óxido férrico).

Para representar la corrosión del hierro escribimos la siguiente ecuación:



Escriba cómo se lee esta ecuación.

.....

¿Será el hierro la única sustancia que puede corroerse?

Observe los postes, edificios u objetos metálicos que se encuentran por las calles o jardines del lugar donde vive e identifique cuáles se encuentran corroídos.

.....

Lógicamente entre las cosas que encuentre corroídas en su recorrido podrá ver que no son todas de hierro, sino que otros metales también se corroen.

El aluminio es una sustancia muy usada en la construcción, por ejemplo en las ventanas y puertas. El aluminio forma con el oxígeno óxido de aluminio, que es una sustancia refractaria que funde a 2400 °C, y, por lo tanto, crea como una funda alrededor del aluminio que no permite pasar al oxígeno y protege al resto del metal.

Muchos otros metales se usan en la fabricación de electrodos, de baterías, de recubrimientos protectores para los autos y en cerámica, como por ejemplo, el cinc, el cobre, el níquel y el cromo, y todos ellos, al estar en contacto con el oxígeno, sufren corrosión.

¿Por qué cree que es tan caro el oro? No sólo por su escasez sino también por su resistencia a la corrosión.


NOTAS

.....

sustancia refractaria ?
Mala conductora del calor y que puede soportar temperaturas extremadamente altas sin perder su solidez.

para saber un poco más ?
En el caso de la oxidación del hierro, la herrumbre es una capa porosa que se forma encima del metal, por ello, la corrosión, es decir la oxidación del hierro, puede seguir en profundidad.

ACTIVIDADES



1. Investiguen algunos problemas de la corrosión y propongan algunas soluciones.

.....

La fotosíntesis y la respiración



PENSAR

Responda desde su experiencia:

¿Las plantas respiran? ¿Qué pasará si coloco una planta debajo de una campana varios días?

Todo ser vivo necesita respirar para vivir. Si miramos por la ventana hacia la calle, veremos árboles, personas, perros, etc. En todos ellos está ocurriendo un fenómeno llamado respiración.

¿Cómo explicaría qué es respirar?

Posiblemente usted habrá respondido, como la mayoría de la gente, que respirar es inhalación de oxígeno y aire y la exhalación de dióxido de carbono y vapor de agua.

Sin embargo, este intercambio es sólo la parte "perceptible" del proceso, ya que otra, menos conocida pero tan fundamental como aquella, es la que ocurre dentro de las propias células, razón por la que se la denomina respiración celular.


Usted sabe qué sucede con el combustible de un auto cuando está en funcionamiento?

El combustible se oxida, se desprenden gases que salen por el escape y queda libre energía, con lo cual se mueve el automóvil.

Del mismo modo, cuando respiramos, oxidamos o quemamos azúcar, consumiendo oxígeno y desprendiendo dióxido de carbono y energía, con que se llevan a cabo los procesos vitales.

Ni el hombre ni ningún otro animal pueden fabricar azúcar, por lo que debemos comerla en alguna forma, como almidón o sacarosa (azúcar común).

En contraste, la planta verde sabe fabricarla juntando al

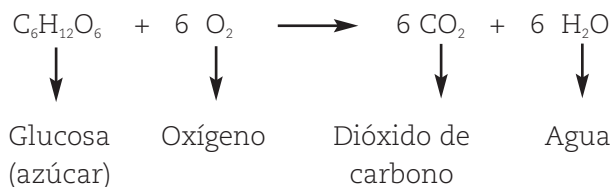
célula 

Es la porción de vida más pequeña. Todos los organismos vivos están formados por células.

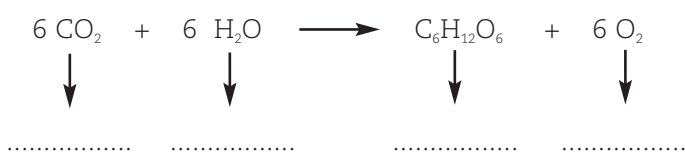
dióxido de carbono con el agua por medio de la energía de la luz y desprendiendo oxígeno al aire como subproducto del proceso.

Ese proceso se llama **fotosíntesis**.

La ecuación química que representa a la respiración es la siguiente:



Mientras que la ecuación química que representa a la fotosíntesis es:



NOTAS

.....

.....

.....

.....

.....

.....

.....

.....

.....

.....

.....

.....

.....

.....

.....

.....

.....

.....

.....

.....

.....

.....

.....

.....

.....

.....

ACTIVIDADES



1. Complete los nombres de todas las sustancias involucradas en la reacción de fotosíntesis, anteriormente escrita.
2. Observe atentamente las dos ecuaciones. ¿Puede llegar a alguna conclusión?

.....

.....

.....

.....

LEER



Como observó, la fotosíntesis es la inversa de la respiración pero solamente en los términos inicial y final y no en las reacciones químicas intermedias.

El doble proceso fotosíntesis-respiración es de máxima importancia; gracias a él se mantiene la vida sobre la Tierra.

La fotosíntesis no sucede en el pizarrón. No es algo teórico sino que se da en cada célula verde; la respiración ocurre real y verdaderamente en el interior de cada célula de cada ser vivo. Veamos cómo se produce:

Esta fermentación se llama fermentación alcohólica, pero hay otros tipos de fermentaciones.

ACTIVIDADES



1. ¿Cómo se elabora la sidra? Investigue sobre este tema con su tutor. Anote las conclusiones.

.....


.....

.....

.....

¿Se acuerda que vimos que cuando dejamos la leche fuera de la heladera se pone agria?. Eso sucede porque se produce un proceso de fermentación.

ACTIVIDADES



1. Investigue junto a sus compañeros cómo sucede. Anote las conclusiones.

.....

.....

.....

2. Realice una representación gráfica de un átomo e indique las partículas subatómicas que lo forman, colocándoles a cada una su carga correspondiente.

3. Con ayuda de la tabla periódica, indique para el átomo de magnesio:

- Su símbolo
- Qué tipo de elemento es (metal, no metal, gas metal)
- Su número atómico
- La cantidad de electrones
- La cantidad de protones
- La cantidad de neutrones (Sabiedo que su número másico es 24)

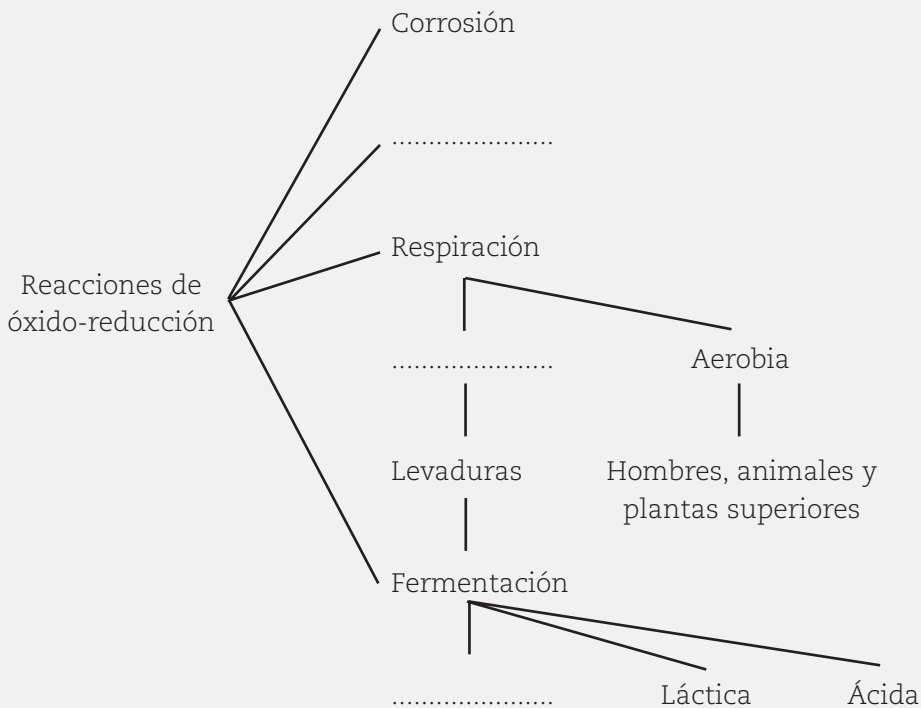
4. Indique si las siguientes afirmaciones son verdades o falsas. Justifique las falsas:

- a) Los átomos se unen mediante cualquiera de sus electrones para formar compuestos.
- b) Durante un cambio físico la materia no se transforma en otra distinta, con distintas propiedades.
- c) Todas las reacciones químicas se producen a la misma velocidad.

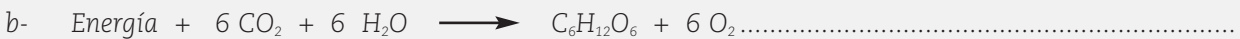
5. En una bodega, a las botellas se las guarda de forma horizontal para mantener el corcho húmedo. ¿Qué sucedería con el vino si se pone en contacto con el aire?


6. Existen distintos tipos de fermentaciones, como la fermentación alcohólica, la ácida y la láctica. ¿Qué tipo de fermentación se produce en este caso?

7. Complete el diagrama sobre las reacciones de óxido-reducción vistas con los siguientes términos: fotosíntesis – anaerobia – alcohólica.



8. Coloque el nombre de los procesos que representan las siguientes reacciones químicas:

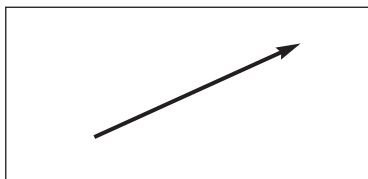




Eje 2: Sistemas

NOTAS

En ese vector podemos identificar:



INTENSIDAD:
representada por el largo del vector.

DIRECCIÓN:
representada por la recta que contiene el vector.

SENTIDO:
representado por la flecha del vector.

Los siguientes vectores representan a fuerzas de distintas direcciones:



Los siguientes vectores representan a fuerzas de distinta intensidad:



Los siguientes vectores representan a fuerzas de distinto sentido:



ACTIVIDADES

Repasemos para ver si entendimos.

Trabajamos con los vectores mencionados anteriormente.

1. Coloque verdadero (V) o falso (F) según corresponda:

- La fuerza A tiene la misma dirección que la fuerza C
- La fuerza D tiene distinta intensidad que la fuerza E
- La fuerza D tiene la misma dirección que la fuerza E
- La fuerza F tiene distinto sentido que la fuerza G
- La fuerza F tiene la misma dirección que la fuerza G

LEER



La intensidad de una fuerza se indica mediante un número y una unidad para medir.

La unidad para medir fuerzas, adoptado por el Sistema Métrico Legal Argentino (SIMELA), es el Newton (N).

Por ejemplo, podemos decir que estiramos un resorte con una fuerza de 15 Newton.

ACTIVIDADES



1. Responda: ¿qué sucede cuando sobre un objeto actúan varias fuerzas?

.....
.....
.....
.....
.....
.....

Cuando sobre un objeto actúan varias fuerzas, éstas forman un sistema de fuerzas.

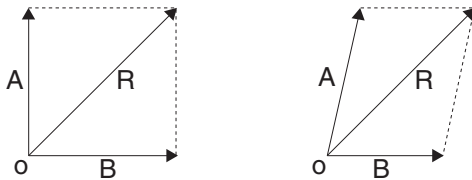
NOTAS

LEER



Un sistema de fuerzas está compuesto por dos o más fuerzas que actúan sobre el mismo cuerpo. A la suma de dichas fuerzas se la llama resultante y se la designa con la letra (R).

El cálculo gráfico de la resultante lo hacemos con el método del paralelogramo.

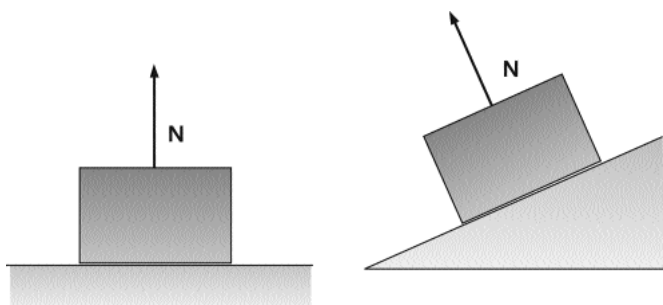


Tal como se ve en la figura, por el extremo de la fuerza A trazamos una paralela a la recta de acción de la fuerza B, y por el extremo de B una paralela a A (líneas punteadas del dibujo). La resultante R es la diagonal del paralelogramo que tiene por origen el origen de las fuerzas dadas (o).

.....
.....
.....
.....
.....
.....
.....
.....
.....
.....
.....
.....
.....
.....
.....
.....
.....
.....
.....
.....
.....

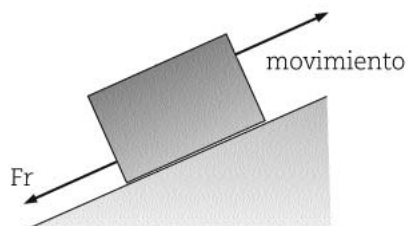
2- Fuerzas normales

Si tenemos un cuerpo apoyado sobre una superficie, éste experimenta, entre otras, una fuerza perpendicular a la superficie, denominada Normal (N).



3- Fuerzas de roce

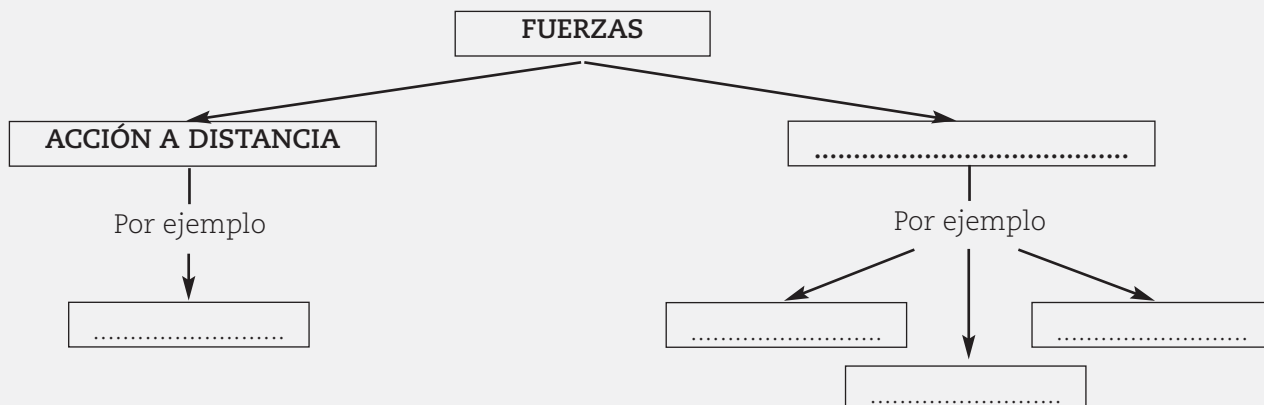
Cuando un cuerpo se desliza sobre una superficie -en el rodamiento de un cuerpo sobre otro- se presentan fuerzas que se oponen al movimiento. A estas fuerzas se las llama fuerzas de rozamiento.



ACTIVIDADES



1. Complete el siguiente cuadro con la información leída anteriormente:





RECORDAR

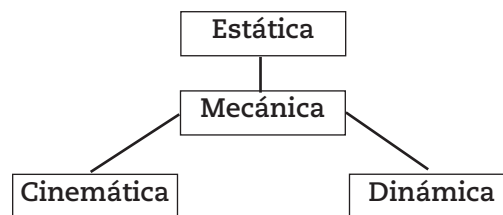
Cuando aplicamos una fuerza, el resultado no sólo depende de su magnitud o intensidad, sino también de su dirección y sentido. Por eso la llamamos magnitud vectorial.

Por lo tanto cuando especificamos una fuerza deberemos indicar magnitud, dirección, sentido, y, en general, el punto de aplicación, ya que éste también determina el resultado.

Las fuerzas se pueden medir, utilizando distintos principios y propiedades físicas de la materia, por medio de los **dinamómetros**.

En la secuencia número 1 Ud. aprendió que la física tiene como un eje de estudio importante a la mecánica.

A su vez la mecánica se subdivide en tres grandes ramas de estudio: cinemática, estática y dinámica.



Una parte de lo referido a cinemática lo desarrollamos en la secuencia 1.

Veamos ahora qué significan estática y dinámica.

ESTÁTICA

Para la física, la estática es el estudio del equilibrio de los cuerpos.



LEER

Si un cuerpo está en equilibrio, tiene velocidad constante o nula.

Si aplicamos una fuerza sobre un objeto, éste deja de estar en **equilibrio**.

O sea que el objeto cambia su estado si no hay otra fuerza que anule o cancele a la primera.

dinamómetro

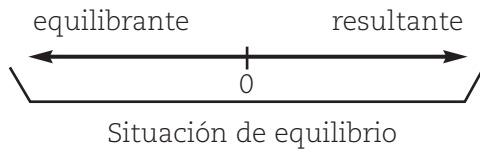
Tipo de balanza que funciona usando la deformación de resortes



Para restablecer el **equilibrio** del cuerpo deberemos ejercer otra fuerza de igual magnitud o intensidad, colineal, o sea sobre la misma recta de la primera, y sentido contrario.

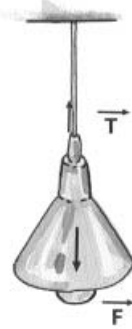
Si son varias las fuerzas actuando simultáneamente sobre el cuerpo, éste se acelerará sólo si la **resultante** del conjunto de fuerzas es distinta de cero. Caso contrario el cuerpo continuará en **equilibrio**.

Para restablecer el equilibrio deberemos aplicar una fuerza **equilibrante** tal que sea de igual magnitud, en la misma recta de acción y opuesta a la **resultante**. Es decir que:



Si hemos definido como resultante a la suma vectorial de todas las fuerzas actuantes sobre el cuerpo la podremos colocar reemplazando al sistema de fuerzas, y por lo tanto, cancelando su acción equilibramos al cuerpo.

Observemos la figura:



Sobre la lámpara actúa la fuerza F que es su peso. Pero la lámpara está sostenida al techo por una cadena: a esta fuerza la llamamos tensión T .

Evidentemente el peso debe ser de igual magnitud, **colineal** y de sentido contrario para que la lámpara esté en equilibrio.

El peso es la resultante y la tensión la equilibrante.

NOTAS

.....

.....

.....

.....

.....

.....

.....

.....

.....

.....

.....

.....

.....

.....

.....

.....

.....

.....

.....

.....

.....

.....



colineal

Las fuerzas están sobre la misma línea, es decir, que tienen la misma dirección.

DINÁMICA

ACTIVIDADES



1. ¿Podría escribir una oración empleando la palabra *dinámica*?

.....

.....

Diremos que dinámica es la parte de la física que se dedica al estudio de las causas que originan el movimiento de los cuerpos. Estas causas son las fuerzas.



ACTIVIDADES

Compare el significado que Ud. tenía de dinámica y el significado que le otorga la física.

1. ¿En qué se parecen ambos significados?

.....
.....
.....
.....



Newton

Newton, Isaac (1642–1727), matemático y físico británico considerado uno de los más grandes científicos de la historia. Dedujo la Ley de la Gravitación Universal, inventó el cálculo infinitesimal y realizó experimentos sobre la naturaleza de la luz y el color. La unidad de medida de fuerza, el newton, recibió este nombre en su honor.

Desde hace muchos años los científicos se interesaron por el movimiento de los cuerpos y sus causas.

Newton formuló tres leyes que han permitido notables avances en la ciencia y la técnica desde el siglo XVIII.

¿Qué dicen esas leyes?

PRIMERA LEY DE NEWTON: PRINCIPIO DE INERCIA



ACTIVIDADES

1. ¿Qué sucede con Ud. cuando viaja en un vehículo y frena bruscamente?

.....
.....
.....
.....

2. ¿Qué sucedería, en cambio, si está en un vehículo detenido y éste se pone en movimiento bruscamente?

.....
.....
.....
.....

3. ¿Por qué cree que ocurren estos fenómenos?

.....
.....
.....
.....

La **masa** de un cuerpo mide la **cantidad de materia** que contiene un objeto.

El cuerpo que tiene más masa o más materia, tiene más **inercia**.



ACTIVIDADES

1. La mayoría de las veces confundimos masa y peso, pero entonces, ¿qué es el peso de un cuerpo?

.....
.....
.....

El **peso** es la **fuerza de atracción de la Tierra** sobre todo cuerpo. Normalmente la indicamos con la letra **P**.

Evidentemente, el **peso** es una fuerza que siempre está dirigida verticalmente hacia abajo (hacia el centro de la Tierra).



RECORDAR

En la Tierra la **aceleración de la gravedad (g)** es de $9,8 \text{ m/s}^2$.

En realidad el **peso** no es una fuerza única, sobre todo cuando el cuerpo es grande. En ese caso es una sumatoria de pesos debidos a las partículas que conforman ese cuerpo. Por lo tanto el peso total es la **resultante** de todas las fuerzas debidas a la gravedad que actúan en cada partícula. El peso total podemos considerarlo concentrado en el punto de aplicación de esa resultante denominado **centro de masa**, o también **centro de gravedad**.



ACTIVIDADES

1. Responda según su apreciación:

El peso de una roca, ¿es el mismo en la Tierra que en la Luna?

.....
.....

El peso depende del lugar del Universo que nos encontremos. Por ejemplo: en la superficie de la Luna el peso de la roca es la sexta parte del peso en la Tierra, porque la fuerza gravitacional en la Luna es seis veces menor que en la Tierra.

Si la roca estuviese en una región del espacio en la que no actuara la gravedad, su peso sería cero.

ACTIVIDADES



1. Conteste la siguientes preguntas.

a) ¿Cuál es su peso en la Luna sabiendo que la gravedad en la misma es seis veces menor que la de la Tierra?

.....

b) ¿Y su masa es diferente?

.....

c) Si le dicen que en la Tierra una bolsa con un kilogramo de clavos pesa 9,8 N. ¿Cuánto pesará un kilogramo de agua?

.....

TERCERA LEY DE NEWTON: PRINCIPIO DE INTERACCIÓN

ACTIVIDADES



1. Observe la siguiente imagen



Imagen extraída de: Hewitt, Paul (1998), *Física conceptual*, México, Editorial Addison Wesley Longman.,pág. 62.

El joven dice: "Miren cómo me empuja la pared".

a) ¿Qué piensa Ud. sobre esta afirmación del joven?

.....

NOTAS

En medio de sus estudios, Newton se dio cuenta que una fuerza no es algo aislado: es parte de una acción mutua, de una interacción entre dos cosas.

Cuando Ud. empuja una pared, la pared también lo empuja a Ud.

Por eso, si se inclina y toca la pared con el brazo, puede hacerlo sin caerse.



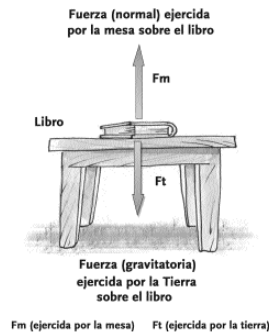
LEER

La Tercera Ley de Newton dice:

"Si un cuerpo ejerce una fuerza (acción) sobre otro, éste último ejerce sobre el primero una fuerza de igual intensidad y de sentido contrario, llamada reacción".

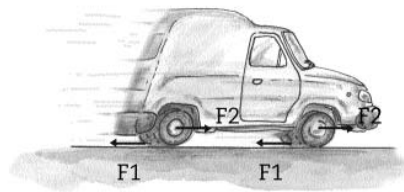
En otras palabras las fuerzas ocurren siempre de a pares. Debiendo tenerse en cuenta que la acción y la reacción actúan sobre cuerpos diferentes.

Veamos el ejemplo de la figura:



El libro ejerce una fuerza sobre la mesa que es la fuerza con que la tierra atrae al libro (su peso) (F_t) y ésta reacciona con una fuerza sobre el libro (F_m) de igual magnitud y de sentido contrario.

Estas fuerzas no se anulan entre sí porque están aplicadas a distintos cuerpos. Así diremos que sobre el libro actúa la fuerza (F_m) y sobre la mesa la fuerza (F_t).



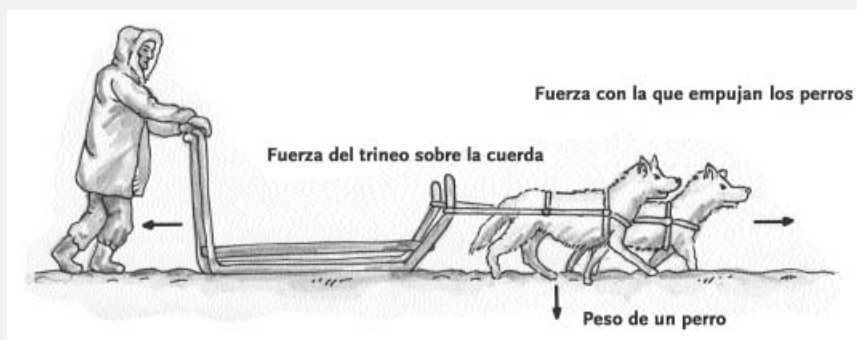
Las ruedas empujan al camino con una fuerza F_1 y reciben una fuerza F_2 , igual y de sentido contrario, que impulsa al auto.



ACTIVIDADES

Vamos a trabajar con lo aprendido:

1. En las siguientes figuras, dibuja las reacciones de las fuerzas señaladas.



DENSIDAD Y PESO ESPECÍFICO

ACTIVIDADES



1. Si debe levantar un bloque de aluminio y otro de plomo de iguales dimensiones, ¿qué diferencias encuentra?

.....

.....

.....

.....

.....

NOTAS

Cuando manejamos distintos productos de iguales volúmenes notamos que no todos tienen el mismo peso y unos requieren más fuerza que otros para levantarlos o moverlos. Por ejemplo, si tenemos un bloque de aluminio y otro de plomo de iguales dimensiones, notamos inmediatamente la diferencia y decimos que el de plomo ejerce más inercia para moverlo que el de aluminio. En otros casos será más o menos notable esa diferencia.

Observe la siguiente ilustración:



Imagen extraída de: Hewitt, Paul (1998), *Física conceptual*, México, Editorial Addison Wesley Longman., pág. 276.

Cuando aplastamos la barra de pan su volumen disminuye. Es decir, la misma cantidad de materia ocupa menos espacio.

Decimos que la densidad es una medida de la cantidad de materia contenida en un espacio dado.

En el caso del pan, al aplastarlo disminuye su volumen y aumenta su densidad.

Para indicar esa característica se establece la relación entre la masa y el volumen de cada sustancia, y a esa relación se la denomina densidad.

Para designar la densidad usamos la letra griega "delta" δ :

$$\delta = m \text{ (masa)} / V \text{ (volumen)}$$

La unidad en el SI es el kilogramo sobre metro cúbico (kg / m^3).

A veces se confunde densidad con **peso específico**



ACTIVIDADES

1. ¿Sabe Ud. qué es el peso específico de una sustancia?

El peso específico es la cantidad de peso de un cuerpo comparado con su volumen y se lo designa con la letra griega ρ (rho).

$$\rho = P \text{ (peso)} / V \text{ (volumen)}$$

La unidad del peso específico es el newton sobre metro cúbico (N / m^3).

El peso específico se usa comúnmente cuando se habla de la presión de los líquidos.

ACTIVIDADES



1. ¿Quién tiene mayor densidad: 1 kg de agua o 10 kg de agua?

.....

.....

.....

La densidad del cuerpo humano es prácticamente igual a la del agua, como podemos comprobarlo al flotar en una pileta.

Si soltamos lentamente el aire de los pulmones, terminaremos acostados sobre el fondo. En cambio, podemos mantener la cabeza completamente afuera del agua si inspiramos profundamente.

FUERZA Y PRESIÓN

ACTIVIDADES



Responda según lo que piensa:

1. ¿Por qué nos hundimos en la nieve si usamos zapatos, pero no si usamos esquíes, si el peso es el mismo?

.....

.....

.....

2. ¿Por qué en la tierra se hunden las patas de una silla en la que nos sentamos y no en cambio una casa que es muchísimo más pesada?

.....

.....

.....

NOTAS



LEER

Lea la siguiente información:

Aunque la fuerza es la misma, la presión que se ejerce sobre la nieve es menor con los esquís que con los zapatos. También las patas de la silla, a pesar de que es liviana, ejerce más presión que la casa.

Aunque en el lenguaje común empleamos a menudo las palabras fuerza y presión con el mismo significado, la física establece una gran diferencia entre estos términos.

La fuerza es la magnitud física que mide el dinamómetro y que se asocia con la aceleración que experimenta un cuerpo sobre el que se aplica dicha fuerza o con la deformación que pueda sufrir.

La presión es otra magnitud física de diferente clase y se calcula como el cociente entre la fuerza que se aplica y la superficie sobre la que actúa.

$$P = F / A$$

P = presión

F = fuerza (N)

A = superficie o área (m²)

En el SIMELA la presión se mide en atmósferas (atm)

También se expresa en newton / metro cuadrado que es igual al Pascal (Pa).

$$P = N / m^2 = Pa$$



ACTIVIDADES

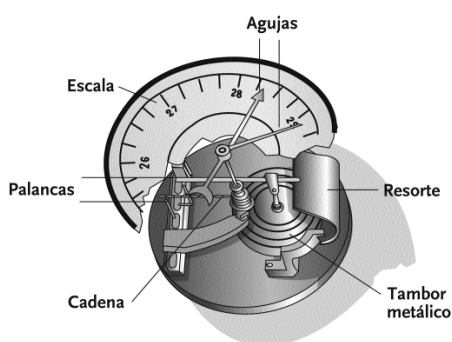
1. Ahora responda Ud.:

¿Qué produce una presión mayor sobre el suelo: un neumático delgado o un neumático ancho del mismo peso?

INSTRUMENTOS PARA MEDIR LA PRESIÓN⁽⁶⁾

La medición de la presión se realiza con un instrumento llamado manómetro. En el caso de medir la presión atmosférica se llama **barómetro**.

El barómetro es un instrumento que se usa para medir la presión atmosférica, es decir, la fuerza por unidad de superficie ejercida por el peso de la atmósfera. Existen varios tipos de barómetros pero el más cómodo y preciso es el llamado barómetro aneróide, en el que la presión atmosférica deforma la pared elástica de un cilindro en el que se ha hecho un vacío parcial, lo que a su vez mueve una aguja.



ACTIVIDADES



Revisamos lo aprendido en esta secuencia.

1. Muchas personas que viajan en automóvil han sufrido lesiones en el cuello en accidentes, cuando otro auto los golpea por detrás, ¿cómo interviene aquí la Primera Ley de Newton?

.....

.....

2. Resuelva aplicando la Segunda Ley de Newton:

Si un auto puede desarrollar una aceleración de 2 m/s^2 , ¿qué aceleración desarrollará si tiene que remolcar a otro auto de la misma masa?

.....

.....

3. Conteste aplicando lo aprendido sobre la Tercera Ley de Newton

La acción y la reacción siempre tienen la misma magnitud y sentido opuesto, ¿por qué entonces no se cancelan?

.....

.....


4. ¿Quién tiene mayor densidad: 5 kg de plomo o 10 kg de aluminio?

.....

5. Señale las diferencias que existen entre peso y presión.

.....

.....



Eje 3: Cambios

SECUENCIA N° 4

NOTAS

SIGLO XX...¡CUÁNTOS AVANCES CIENTÍFICOS!

Para desarrollar los conocimientos de esta secuencia de aprendizaje retomaremos algunos hechos y conceptos estudiados.

LA CÉLULA

En algún momento Ud. habrá mencionado, escuchado o leído algo sobre la CÉLULA.

¿Podría explicar con sus palabras lo que entiende por CÉLULA?

.....
.....
.....
.....

LEER

Lea, ahora, con atención:

Un elefante, una mosca o un rosal son seres vivos que, aunque presentan formas externas muy diferentes están todos formados por protoplasma.

Pero, ¿qué es el protoplasma?

El término protoplasma se conoce desde 1839 y aún se utiliza para referirse a todos los elementos que forman unidades de vida, generalmente de tamaño microscópico, llamadas **células**. Por eso decimos que la célula es la unidad estructural de los seres vivos.

A su vez el funcionamiento de todos los seres vivos se asegura por el desarrollo de las funciones vitales de nutrición, reproducción y relación. Estas funciones son llevadas a cabo por el protoplasma celular y por lo tanto la célula es también la unidad funcional de los seres vivos.

**célula**

Unidad estructural y funcional de todos los seres vivos.

ACTIVIDADES

1. Para revisar lo que acabamos de leer, complete el siguiente cuadro:

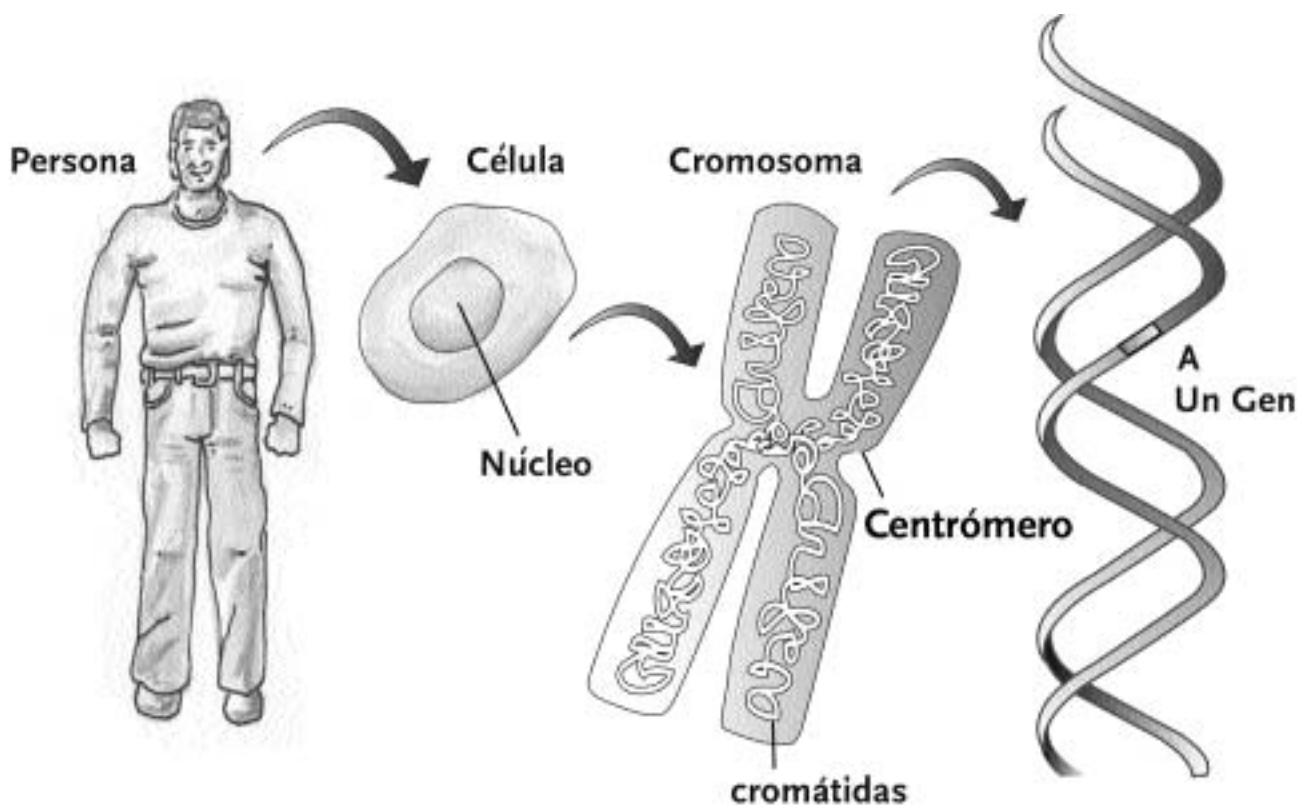
Los cromosomas se encuentran formados por estructuras dobles, las cromátidas, separadas entre sí a lo largo, excepto en un punto llamado centrómero.

Los cromosomas son estructuras formadas por compuestos químicos que intervienen en la transmisión de los caracteres hereditarios. Uno de esos compuestos químicos es el ADN.

El ADN es el portador de la información genética, es decir que en él están escritas las instrucciones a partir de las cuales se originan todos los componentes del organismo.

Esta información se presenta en unidades llamadas genes.

El siguiente modelo le ayudará en su comprensión:



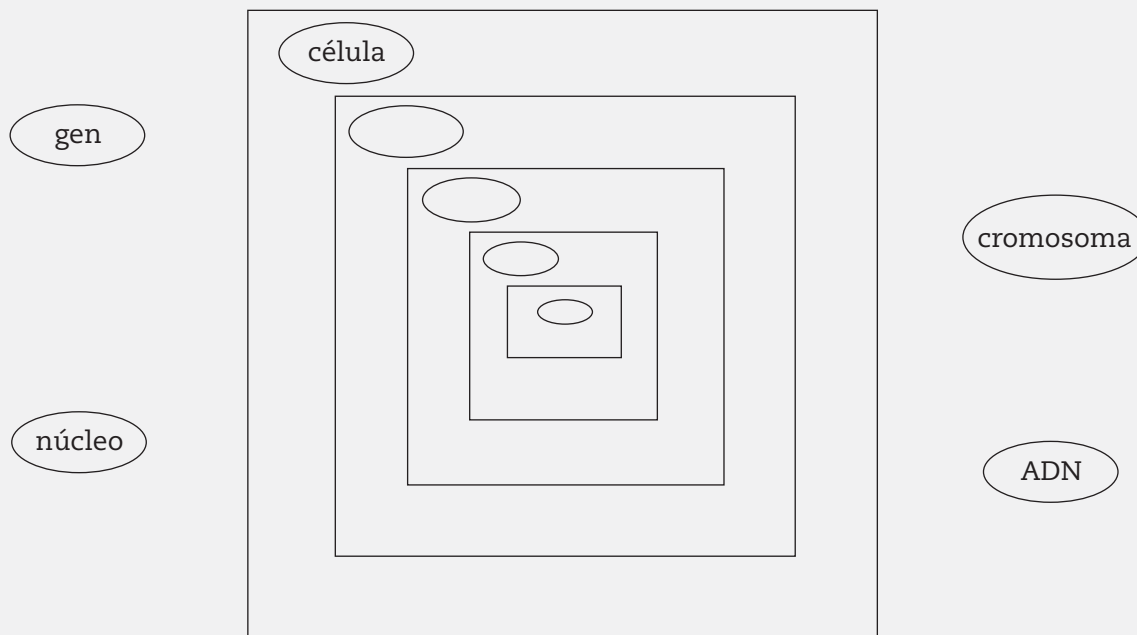
Adaptación de las autoras. Fuente: Bergés. T y otros (1995), *Ciencias de la Naturaleza, Biología y Geología*, Madrid, Anaya.



ACTIVIDADES

1. Ubique las estructuras celulares colocando los nombres de las mismas según corresponda.

Le ayudamos con la de mayor tamaño



2. Ahora complete los textos, según la información anterior:

a) Llamamos interfase a

.....

.....

.....

b) Durante la interfase podemos diferenciar en la célula los siguientes componentes

.....

.....

.....

c) El ADN es

.....

.....

.....

d) El proceso por el cual la célula entra en estado de reproducción se llama

.....

.....

.....

e) En relación a los cromosomas podemos decir que

.....

.....

.....

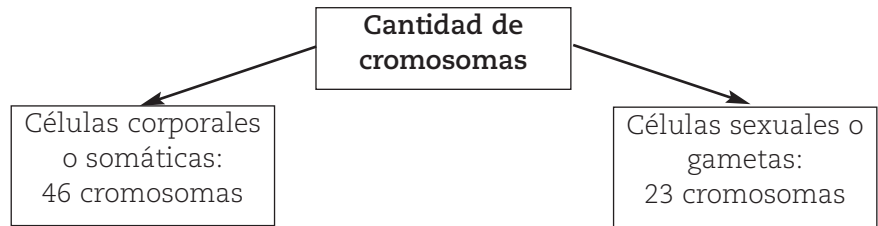
NOTAS

Avancemos un poco más:

El número de cromosomas es constante en todas las células corporales o somáticas de un organismo.

Esto quiere decir que todas las células del organismo, a excepción de las sexuales (óvulos y espermatozoides), poseen el mismo número de cromosomas y la misma información genética.

Por ejemplo, la especie humana posee 46 cromosomas con la misma información genética en cada célula, con excepción de las células sexuales -también llamadas gametas- que poseen 23 cromosomas.



Cuando la célula entra en reproducción, ¿cómo se transmite la información desde la célula madre a las células hijas?

El hecho de que el número cromosómico cambie en células somáticas y sexuales se debe al tipo de división celular que ocurre en cada una de estas células.

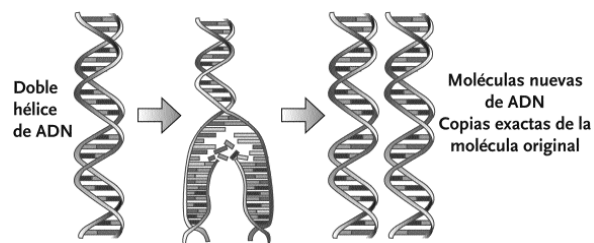
Comencemos con las **células somáticas**.

Durante el ciclo celular se dan ciertos mecanismos que, como ya expresamos, pueden diferenciarse en dos grandes momentos: interfase y mitosis.

INTERFASE

Representa un período fundamental, previo a la división celular, en el cual en la célula madre se duplica el ADN, formando dos moléculas de ADN, copias exactas, que facilitan que posteriormente las células hijas formadas, reciban la misma información hereditaria.

El siguiente modelo representa lo explicado.



Adaptación de las autoras. Fuente: Bergés. T y otros (1995), *Ciencias de la Naturaleza, Biología y Geología*, Madrid, Anaya.

RECORDAR



NOTAS

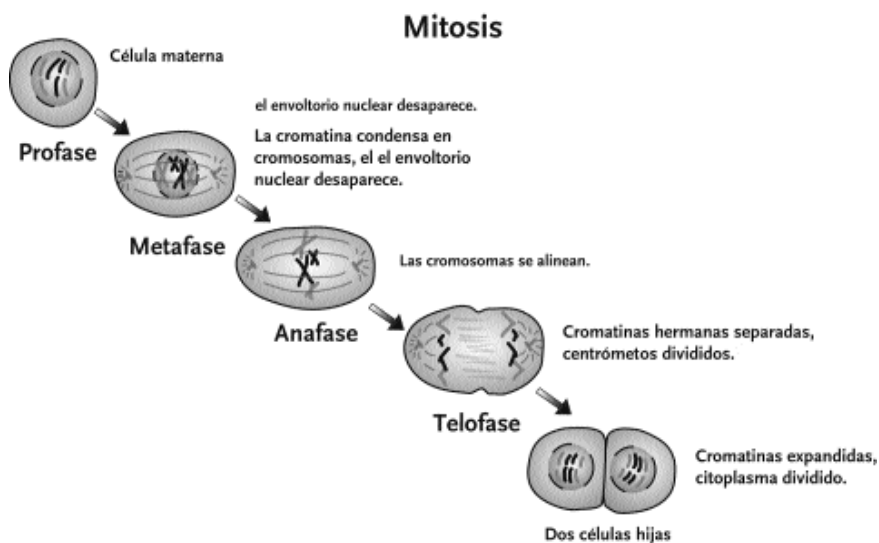
Entonces, no olvide que durante la interfase se duplica el ADN en dos copias exactas, dentro del núcleo celular.

MITOSIS

Constituye una etapa diferente, en la que se separan las copias del material hereditario y se divide el núcleo de la célula madre, para formar el núcleo de dos células hijas que poseen así el mismo número de cromosomas con igual información genética que la célula madre.

Después de la división del núcleo tiene lugar la división del citoplasma ya que ambas células reúnen la información necesaria para crecer y transformarse en una célula adulta capaz de volver a dividirse.

El siguiente esquema representa cambios que se desencadenan durante las fases de la mitosis



¡Recuerde! Durante la mitosis:

- Se separan las copias del material hereditario.
- Se divide el núcleo para formar dos núcleos correspondientes a dos células hijas.
- Se separa el citoplasma ya que las dos nuevas células pueden desarrollar su vida en forma independiente.

¿Cómo se reproducen las **células sexuales**?

NOTAS

.....

.....

.....

.....

.....

.....

.....

.....

.....

.....

.....

.....

.....

.....

.....

.....

.....

.....

.....

.....

.....

.....

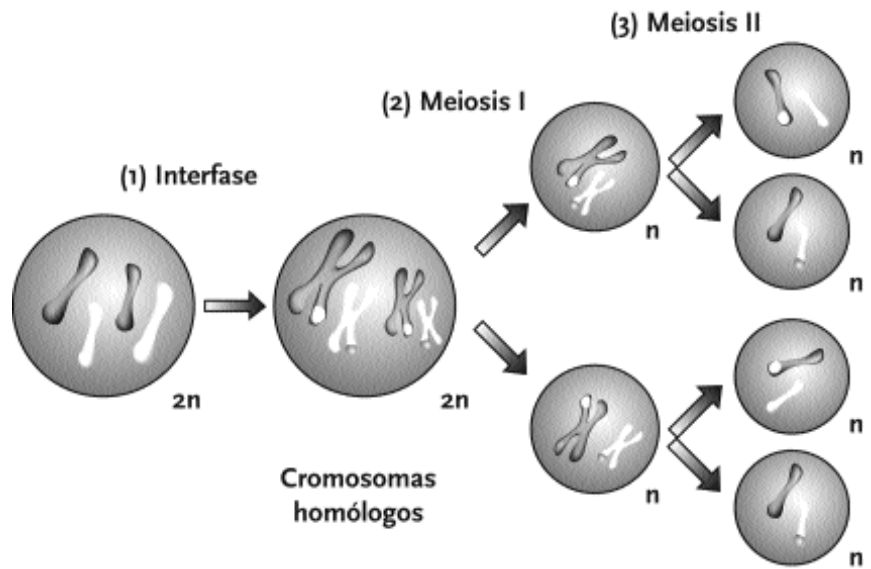
.....

Si las gametas o células sexuales contienen la mitad del número de cromosomas que el resto de las células, es evidente que no pueden formarse de igual manera que las del resto del cuerpo.

Las gametas se forman en los órganos sexuales, ovarios y testículos, donde células madre, con la misma dotación cromosómica que cualquier otra célula del organismo, se dividen de una manera especial que recibe el nombre de Meiosis.

La división celular por meiosis supone dos divisiones mitóticas (por mitosis) sucesivas, de tal modo que a partir de una célula se obtienen cuatro células hijas con la mitad del número de cromosomas que poseía la célula madre.

El siguiente gráfico ayuda a la comprensión.



ACTIVIDADES

1. Para revisar lo aprendido, complete la siguiente tabla

	MITOSIS	MEIOSIS
semejanzas	=	
diferencias		

Los conocimientos sobre célula, ADN y genes nos acercan a otros muy actuales.

NOTAS

un gen e insertarlo después en una bacteria, o en la línea germinal de un vegetal o animal para que pueda transmitirse por herencia.

Actualmente la Organización de Cooperación y Desarrollo Económicos (OCDE) define biotecnología como: " Aplicación de procedimientos científicos y técnicos a la transformación de ciertas materias por agentes biológicos (microorganismos, células vegetales y animales y enzimas) para producir bienes y servicios , que tienen que ver con la agricultura, ganadería, pesca, industrias alimentarias y farmacéuticas. Sasson y Da Silva 1994.

En nuestros días las aplicaciones biotecnológicas ofrecen múltiples beneficios y se desarrollan en los diferentes sectores productivos como son el campo de la salud, de la industria farmacéutica, el ambiente, la agricultura, la industria alimentaria y la no alimentaria entre otros.



ACTIVIDADES

Trabajemos un poco sobre lo que acabamos de aprender

1. *Escriba el concepto de Biotecnología dado por la Organización de Cooperación y Desarrollo Económico*

.....
.....
.....

2. *Nombre dos acciones biotecnológicas desarrolladas a lo largo de la historia de la humanidad*

.....
.....
.....

3. *¿Podría mencionar el hecho que ocasionó "la gran revolución biotecnológica"?*

.....
.....
.....

4. *¿Qué sectores se ven beneficiados actualmente con las aplicaciones biotecnológicas?*

.....
.....
.....

5. *¿Podría nombrar algún ejemplo concreto de Biotecnología aplicada en la provincia de Mendoza?*

.....
.....
.....

UNA APLICACIÓN DE LA INGENIERÍA GENÉTICA: TECNOLOGÍA ALIMENTARIA

NOTAS

¿Escuchó alguna vez hablar sobre alimentos transgénicos?

Si su respuesta es afirmativa, ¿podría escribir qué entendió sobre su significado?

.....

.....

.....

.....

.....

Actualmente el término alimentos transgénicos no resulta extraño ya que los avances científicos se encuentran muy ligados a nuestra vida cotidiana.

Alimentos transgénicos

En varias ocasiones nos habremos preguntado ¿qué son en realidad los alimentos transgénicos?

Diremos que son aquellos productos alimenticios vegetales o animales, que han sido modificados genéticamente con técnicas desarrolladas por la **ingeniería genética**.

¿Cómo se modifican estos alimentos?

Con una nueva tecnología conocida con el nombre de ADN recombinante. En la actualidad la utilizan los biólogos moleculares que están capacitados para manipular genes, modificando y recombinando porciones de moléculas de ADN, que proceden de diferentes especies e insertando estas partes modificadas en otras células en donde este material puede expresarse, es decir producir proteínas. Los alimentos transgénicos se caracterizan porque les han sido incorporados en su genoma por vía puramente artificial (transgénesis), genes extraños que pertenecen a otros seres vivos. Así, y con las técnicas disponibles, se han desarrollado bacterias, animales y plantas transgénicas, siendo estas últimas el logro más impresionante que se exhibe en el "rediseño" genético de organismos vivos. La peculiaridad principal de este proceso es que por primera vez se hace posible la transferencia genética horizontal (intercambio del material genético de animales a plantas y viceversa), poniendo fin así, a las barreras infranqueables que hasta ese momento habían sido minuciosamente cultivadas por los mecanismos naturales de la evolución.

Como consecuencia de la aplicación de esta tecnología, la información genética natural de una especie, se modifica para contener un gen adicional y sus descendientes heredan este gen del mismo modo que los propios.

ingeniería genética



Ciencia que comprende los métodos utilizados para alterar genes.

NOTAS

¿En quiénes se aplica?

Existen variados alimentos transgénicos. Por ejemplo, desde hace varios años se está desarrollando una metodología que permite la introducción de genes de interés económico en maíz y trigo.

¿Para qué?

Para aumentar el rendimiento y la calidad del producto.


Busque información sobre otros alimentos transgénicos y anótela.

Los genes hoy constituyen estructuras concretas y manejables y son utilizados con propósitos fijados, partiendo de técnicas que permiten aislarlos para modificarlos y transferirlos del organismo de origen a otro. Se utilizan por ejemplo para crear organismos transgénicos, que permiten resolver problemas de erradicación de enfermedades o productividad. Las técnicas empleadas por la ingeniería genética en general, tienen un denominador común: en todos se manipula el material genético (ADN) de dos o más especies diferentes. La ingeniería genética consiste por lo tanto en un conjunto de técnicas de intervención sobre el ADN.

UN DILEMA ¿HAY QUE TEMER A LA INGENIERÍA GENÉTICA?

La revolución biotecnológica ya está instalada en la sociedad actual; la ingeniería genética es hoy fuente de esperanzas y sus resultados ya afectan nuestras vidas. La habilidad para manipular células, tejidos y hasta la información genética ha demostrado su utilidad, por ejemplo para la producción de **insulina**.

Busquen información sobre la producción de insulina artificial y anótela.

insulina 

Sustancia química que regula la concentración de glucosa en sangre.

LEER



Para ir terminando, diremos que hay que destacar que así como la utilización prudente de la Biotecnología es muy útil, su

.....

.....

.....

.....

.....

.....

.....

.....

.....

3. *Elabore un esquema donde relacione los conceptos trabajados en esta secuencia: célula, núcleo, cromosoma, ADN, gen y aplicaciones biotecnológicas.*

4. *Lea el siguiente texto:*

En 1987, el genetista Alec Jeffreys, ideó en Inglaterra un método, aplicando técnicas de ingeniería genética, que permite identificar individuos a partir de determinados fragmentos de ADN a los que él llamó "huellas genéticas". Este método puede tener diferentes aplicaciones, como averiguación de parentesco, de compatibilidad de transplantes, y de identificación de sospechosos de un crimen. Por ejemplo se pueden identificar asesinos, o violadores a partir de una mínima muestra de pelo, semen, saliva o sangre que haya quedado en el sitio del delito, al comparar el ADN de un sospechoso con el hallado en el lugar del crimen...

*Fuente Bocalandro. N. y otros **Biología I** Estrada 1999.*

5. *En la investigación de los delitos, ¿resultan útiles las técnicas de ingeniería genética? ¿En qué casos?*

.....

.....

.....

.....

.....

.....

SECUENCIA Nº 5

CAMBIA, TODO CAMBIA

SUSTANCIAS ORGÁNICAS E INORGÁNICAS

ACTIVIDADES



1. ¿Qué le sucede al agua si la calentamos?

.....

2. ¿Y si la enfriamos?

.....

3. ¿Y si, en lugar del agua calentamos hierro a elevadas temperaturas?

.....

4. ¿Y si luego lo enfriamos?

.....

Existe un tipo de sustancias, como el hierro, que si las calentamos se funden y si las enfriamos se condensan, sin cambiar su composición.

En cambio, si tomamos otro tipo de sustancias, como el azúcar o el aceite, ¿qué sucede al calentarlas?

.....
.....

Comienzan a formarse humos, a cambiar de color y hasta pueden llegar a carbonizarse. Después que terminamos de calentar ya no tenemos ni azúcar ni aceite; y al enfriarse no obtenemos las sustancias iniciales, en este caso ni azúcar ni aceite.

Al primer tipo de sustancias se las denomina sustancias inorgánicas y al segundo tipo sustancias orgánicas.

CARACTERÍSTICAS

LEER



- Las sustancias inorgánicas, antes llamadas minerales, se encuentran en la naturaleza inanimada: el agua, el aire, los yacimientos, etc.

sustancias orgánicas



La palabra orgánico tiene diversos significados. Se llama fertilizante orgánico al que tiene su origen en un organismo vivo. Se llaman alimentos orgánicos a aquellos que se cultivan sin agregarle plaguicidas ni fertilizantes. Y se llama química orgánica a la química de los compuestos del carbono.

enlace o unión química

es la forma de unión entre átomos para formar compuestos.

enlace iónico

Generalmente se produce cuando se une un metal con un metal. Por ejemplo: en el caso de la sal común, un átomo de cloro (no metal) se une con un átomo de sodio (metal) y forma el cloruro de sodio o sal común. Un átomo cede (pierde) electrones y otro los acepta (gana). Al perder o ganar electrones, los átomos dejan de ser neutros, para transformarse en átomos con carga eléctrica, llamados iones. Si la carga del ión es positiva se lo llama catión. Si la carga es negativa se lo denomina anión.

enlace covalente

Generalmente este enlace se produce cuando se une un no metal con otro no metal o con el hidrógeno. En este tipo de unión los átomos al unirse comparten uno más pares de electrones. Por ejemplo, la molécula de nitrógeno.

punto de fusión

Es la temperatura en la que una sustancia pasa de estado sólido a estado líquido.

inflamable

Sustancia que se enciende fácilmente, ardiendo con facilidad y desprendiendo llamas inmediatamente.

Se caracterizan porque sus moléculas están formadas por diversos elementos de la tabla periódica.

Se conocen aproximadamente 250.000 sustancias inorgánicas. Sus moléculas son sencillas y están formadas como máximo por 10 a 20 átomos.; estos átomos se pueden encontrar unidos mediante **enlaces iónicos** o **covalentes**.

Muchas sustancias inorgánicas iónicas disueltas en agua o fundidas conducen la electricidad (por ello se llaman electrólitos). Por ejemplo el ácido sulfúrico de la batería del auto.

Si se las calienta no se descomponen, se dice que son térmicamente estables.

Las sustancias inorgánicas tienen puntos de **fusión** elevados.

Las sustancias inorgánicas típicas, no son **inflamables**, incluso algunas de ellas se usan para combatir incendios..

- Las sustancias orgánicas se caracterizan porque en sus moléculas siempre se encuentra el elemento carbono (C).

Se conocen aproximadamente 5.000.000 de sustancias orgánicas, naturales o sintéticas (creadas en un laboratorio). Una pequeña cantidad de elementos componen una gran cantidad de moléculas.

Estos elementos son carbono (C) e hidrógeno (H), en menor proporción oxígeno (O) y nitrógeno (N), y en algunos casos calcio (Ca), fósforo (P), potasio (K), azufre (S), cloro (Cl), sodio (Na) y magnesio (Mg).

Sus moléculas son complejas, suelen ser de elevada masa molecular y los átomos que las forman se encuentran unidos mediante enlaces covalentes.

Por ejemplo, la molécula de sacarosa (azúcar común) está formada por 45 átomos y sólo por C, H y O. Su fórmula es $C_{12}H_{22}O_{11}$.

Las sustancias orgánicas no conducen la electricidad.

Si se las calienta se descomponen. A 200-300 °C se carbonizan, es decir que se descomponen, separándose el carbono.

Las sustancias orgánicas representativas, como los combustibles, son inflamables.

Las sustancias orgánicas típicas tienen puntos de fusión relativamente bajos.



ACTIVIDADES

1. Con la información leída sobre las características de las sustancias orgánicas e inorgánicas elabore un cuadro comparativo

PENSAR



Al investigar un anticongelante para la cañería de combustible de un automóvil, cuya fórmula química era CH_3OH , se encontró que era inflamable, tenía un punto de ebullición bajo y no conducía la corriente eléctrica.

ACTIVIDADES



1. Diga si la sustancia es orgánica o inorgánica.

.....

LAS SUSTANCIAS ORGÁNICAS E INORGÁNICAS Y LOS SERES VIVOS

ACTIVIDADES



1. ¿Recuerda cómo está formada una célula?

.....

.....

.....

2. Por un núcleo y alrededor de él el citoplasma. ¿Qué parte de la célula piensa usted que permite el **intercambio** de sustancias entre la célula y el medio?

.....

.....

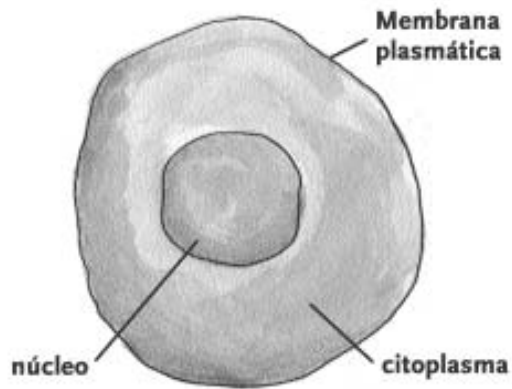


**intercambio de
sustancia**

Entrada y salida de sustancia.

NOTAS

En la parte exterior de la célula existe una membrana llamada membrana citoplasmática.



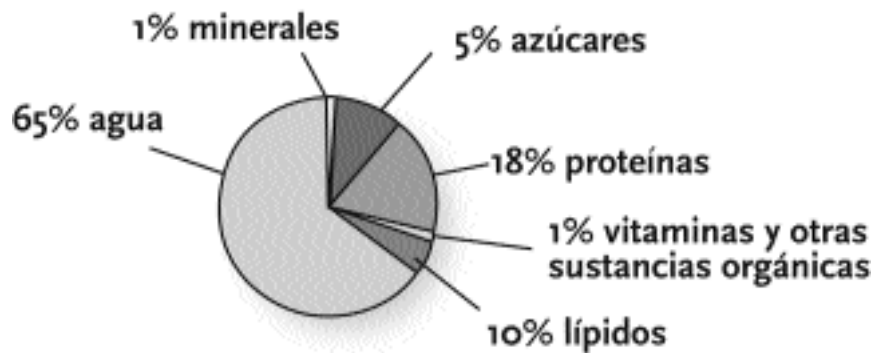
Cuando una sustancia ingresa a una célula, a través de la membrana citoplasmática, queda disuelta o en suspensión en el citoplasma.

Esta sustancia puede ser orgánica o inorgánica.

El siguiente dibujo nos muestra una célula y las sustancias que entran o salen:



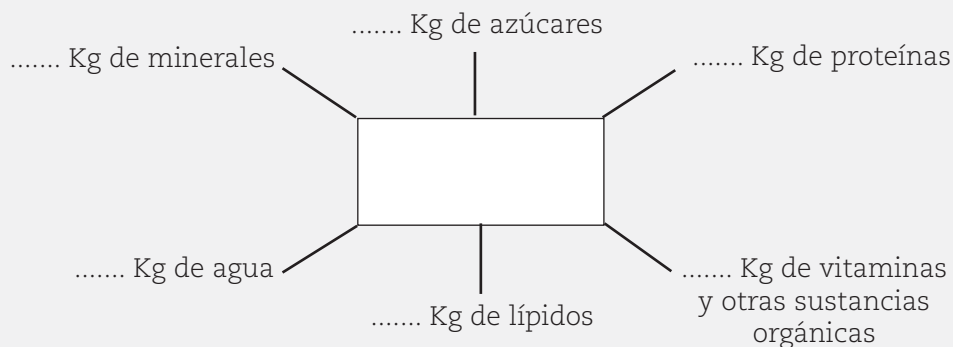
El siguiente gráfico muestra los porcentajes de todas las sustancias que entran o salen de la célula.





ACTIVIDADES

1. Coloque en el cuadro central su peso corporal y determine cuántos kg corresponden a cada tipo de sustancia. Utilice el esquema anterior.



Dijimos que a la célula entran y salen distintas sustancias, que pueden ser inorgánicas u orgánicas. Las sustancias inorgánicas que entran o salen de las células son el agua y las sales minerales, mientras que las otras sustancias son orgánicas.

ACTIVIDADES



1. Mire el esquema y nombre las sustancias orgánicas.

.....

.....

2. Pero, ¿a través de quiénes ingresan las distintas sustancias a nuestro cuerpo, y en consecuencia a nuestras células?

.....

.....

Sí, a través de los alimentos.

ALIMENTOS: COMPOSICIÓN QUÍMICA

ACTIVIDADES



1. Si alguien le preguntara para qué comemos, ¿qué respondería?

.....

.....

Podemos decir que comemos para saciar el apetito o porque nos gusta; pero, en realidad, comemos para mantener el buen funcionamiento del organismo, incorporando mediante la ingestión de los alimentos la materia y la energía que necesitamos.

2. ¿Todo lo que ingerimos es necesario?

.....
.....

No todo lo que ingerimos es necesario. Sólo una pequeña cantidad de las sustancias que componen los alimentos son esenciales para la vida. Estas sustancias se denominan nutrientes.

Desde el punto de vista de la química los nutrientes son los compuestos químicos que satisfacen las necesidades de materia y energía requeridas por las células. Estos nutrientes son las sustancias inorgánicas y orgánicas que vimos que ingresan a las células: el agua, las vitaminas, las sustancias minerales, la glucosa (provenientes de los azúcares), los ácidos grasos (provenientes de los lípidos) y los aminoácidos (provenientes de las proteínas).

Vamos a describir brevemente cada una de estas sustancias.

AZÚCARES

A los azúcares se los denomina también carbohidratos, hidratos de carbono o glúcidos. Están compuestos por oxígeno, hidrógeno y carbono. Los consumimos en forma de azúcares o almidones. La producción de estos carbohidratos se da a partir del proceso de la fotosíntesis, tal como ya lo hemos estudiado.



ACTIVIDADES

1. ¿Qué alimentos conoce que sean ricos en almidón?

.....
.....

Los carbohidratos se encuentran en las frutas, en la miel, en la caña de azúcar, en vegetales, etc.; como almidón se encuentra en semillas (especialmente cereales, trigo, maíz), raíz y tallos (papa).

Los azúcares, como la glucosa ($C_6H_{12}O_6$), están constituidos por moléculas simples, mientras que los almidones poseen estructuras complejas, integradas por muchas moléculas de azúcares unidas en cadenas.

Por ejemplo, la maltosa, que es el azúcar que se encuentra

en la leche de los mamíferos, está formada por dos glucosas; el almidón, por miles de glucosas.

Cuando consumimos un alimento que tiene carbohidratos, al ingresar al organismo se **metabolizan**, sus estructuras se dividen en unidades menores llamadas glucosas.

La glucosa es soluble en agua y por eso puede pasar a la sangre y ser llevada a las células.



metabolismo

Término que se utiliza para describir todas las reacciones químicas que se presentan en las células de los seres vivos.

ACTIVIDADES



1. A los jugadores de fútbol, cuando van a jugar un partido, les recomiendan comer pastas, ¿por qué?

.....

.....

Los carbohidratos constituyen la principal fuente de energía del organismo; por tanto son los nutrientes que más necesita consumir.

LÍPIDOS

La mayoría de los lípidos están constituidos por oxígeno, hidrógeno y carbono.

Algunos lípidos, llamados lípidos compuestos, tienen estructuras complejas que incluyen fósforo y nitrógeno.

ACTIVIDADES



1. ¿Qué alimentos conoce que contengan lípidos?

.....

.....

Las grasas y los aceites son dos tipos de lípidos que pueden encontrarse en vegetales como la palta y el maní, y en animales como el cerdo y la ballena.

ACTIVIDADES



1. Si coloca aceite o grasa en un vaso y le agrega agua, ¿qué observa?

.....

.....

Una característica de los lípidos es que no se disuelven en agua.

Las grasas son también alimentos energéticos, como los glúcidos.

Cuando consumimos lípidos se metabolizan y se transforman en sustancias llamadas ácidos grasos y glicerina.

El organismo emplea a las grasas y los aceites como reservas de energía, que aprovecha cuando no tiene glúcidos disponibles.

PROTEÍNAS

Todas las moléculas de proteínas contienen nitrógeno en combinación con carbono, hidrógeno y oxígeno. Algunas contienen también azufre y fósforo; otras tienen hierro, manganeso, cobre y yodo.



ACTIVIDADES

1. ¿Qué alimentos consume que contengan proteínas?

.....

.....

.....

La carne, las almendras, la soja o la leche son alimentos que contienen proteínas.

Las proteínas están presentes en todos los tejidos vivos ya sean de plantas o animales como en los tejidos de semillas, en la carne sin grasa, en los órganos vitales, la piel y el cabello.

Las proteínas no son sustituibles y deben ser aportadas por la dieta, ya que el organismo no puede sintetizarlas.

En el organismo las proteínas sufren una serie de transformaciones hasta llegar a formarse compuestos más sencillos llamados aminoácidos.

MINERALES

Los minerales son sustancias inorgánicas que proporcionan componentes importantes.



ACTIVIDADES

1. ¿Qué minerales conoce que sean indispensables para nuestro organismo?

.....

.....

.....

.....

La sal común (cloruro de sodio); el magnesio, el calcio, etc, son ejemplos de minerales.


Se clasifican en:

- macronutrientes: son aquellos que el organismo necesita en una cantidad mayor a 100 g diarios, y
- micronutrientes: si son necesarios pocos miligramos de ellos.

En la siguiente tabla se presentan algunos de ellos junto con sus funciones específicas en el organismo:

Mineral	Fuente	Funciones
Calcio	Leche, queso, pan, harina y verduras verdes.	Formación de dientes y huesos.
Potasio	Leche, banana, cítricos.	Regula movimientos cardíacos y contracciones musculares.
Hierro	Carne, yema de huevo, pan, cereales.	Transporta el oxígeno hasta los tejidos.
Magnesio	Vegetales verdes, carne, nueces.	Buen funcionamiento de nervios y músculos.

ACTIVIDADES



1. Investiguen las fuentes de las cuales se puede obtener el cloruro de sodio y qué función cumple en el organismo.

.....

.....

.....

.....

NOTAS

VITAMINAS

Existen sustancias orgánicas que deben ser aportadas por la dieta, ya que el organismo no puede sintetizarlas. Ellas se denominan vitaminas.

Las vitaminas se encuentran en los alimentos en cantidades muy pequeñas, pero son indispensables para regular algunas funciones del organismo humano.

A diferencia de las grasas, carbohidratos y proteínas, las vitaminas no aportan energía alguna, pero su presencia es indispensable dentro del organismo para el metabolismo energético. Si faltan algunas vitaminas se crean ciertas deficiencias.

Las vitaminas se pueden clasificar en:

- **Hidrosolubles o solubles en agua**, como el complejo vitamínico B y C. Se encuentran dentro de los líquidos de algunas frutas y verduras, leche y productos cárnicos. Este tipo de vitamina no se acumula dentro del organismo, por lo que se recomienda su consumo diario.
- **Liposolubles o solubles en grasas**. Las vitaminas A, D, E y K son almacenadas fácilmente dentro del organismo, por lo que no es necesario su consumo diario, pero deben consumirse en cantidades suficientes en determinados periodos. Se encuentran en el hígado, manteca, margarina, crema, verduras (ya sean verdes y/o amarillas), yema de huevo, leche, nueces y en los aceites vegetales.

AGUA

El agua es un compuesto inorgánico indispensable para la vida y el más abundante en todos los alimentos. Se absorbe a nivel intestinal para luego ser transportada por la sangre a todos los demás órganos.

El agua participa en el transporte de nutrientes y productos residuales, regula la temperatura corporal y disuelve sustancias y componentes estructurales de las células.

Los seres humanos adultos contienen alrededor de un 70 % de agua.



ACTIVIDADES

1. Vea el esquema que muestra los porcentajes de todas las sustancias que entran o salen de la célula, realícelo

nuevamente agregándole la función que cumple cada una de las sustancias.

ALIMENTOS. VALOR CALÓRICO Y SU INCIDENCIA EN LOS SERES VIVOS

LA CALORÍA

ACTIVIDADES



1. ¿Sabe usted si todos estos nutrientes, que ingresan a nuestro cuerpo mediante los alimentos, nos aportan la misma energía?

.....

.....

2. ¿Alguna vez usted o un familiar suyo ha seguido una dieta para adelgazar?

.....

.....

Posiblemente tuvo que contar las calorías.

3. Pero, ¿qué es una caloría?

.....

.....

.....


LEER




energía

Es la capacidad que tiene un sistema para producir cambios o transformaciones en él mismo o en otro sistema.

Una caloría es una medida de la **energía** que contienen los alimentos. Por ejemplo, una porción grande de papas fritas (136 g) contiene 220 Calorías de energía alimenticia.

caloría alimenticia 

Una caloría alimenticia (Cal), es igual a 1000 calorías o 1 kilocaloría. Una caloría (c) representa la energía térmica necesaria para elevar en un grado Celsius la temperatura de un gramo de agua. Por lo tanto, una caloría alimenticia haría subir en un grado Celsius la temperatura de 1 kg de agua.

 **ACTIVIDADES**


1. ¿De dónde proviene esta energía?

.....

.....

Esa energía proviene del Sol.

¿Recuerda cuando estudió la fotosíntesis?

 **ACTIVIDADES**

1. Describa brevemente el proceso de la fotosíntesis y responda: ¿en qué momento recuperamos parte de la energía almacenada en una planta?

.....

.....

.....

.....

.....

¿Cuáles de los nutrientes vistos nos aportan energía?

.....

.....

.....

NOTAS

VALORES DE LOS NUTRIENTES

Los hidratos de carbono, las proteínas y las grasas son los nutrientes que nos aportan energía y liberan calor. La cantidad de calor que liberan en promedio se expresa de la siguiente manera:

Nutrientes	Calorías (por gramo)
Hidratos de carbono	4.0
Proteínas	4.0
Grasas	9.0

Si se conoce la composición de un alimento, en términos de los hidratos de carbono, proteínas y grasas, podemos estimar su valor calórico en base a estos valores.

Por ejemplo: el valor calórico medio de 100 g de pan es de 245,3 cal. Cien gramos de pan contienen aproximadamente 49,7

gramos de hidratos de carbono, 7,8 gramos de proteínas y 1,7 gramos de grasas. El valor calórico se calcula de la siguiente forma:

Hidratos de carbono	49,7 g	X	4	=	198,8 Calorías
Proteínas	7,8 g	X	4	=	31,2 Calorías
Grasas	1,7 g	X	9	=	15,3 Calorías
				TOTAL:	245,3 Calorías

ACTIVIDADES



1. Calcule el valor calórico de 100 gramos de manteca, conociendo que contienen aproximadamente 0 gramos de hidratos de carbono, 0,4 gramos de proteínas y 82 gramos de grasas.

.....

.....

.....

GASTO CALÓRICO. METABOLISMO

Muchas veces habrá escuchado hablar del metabolismo; es más, lo hemos nombrado al referirnos a los nutrientes.

Cuando nos referimos al metabolismo estamos hablando de las reacciones químicas que se realizan en las células de los seres vivos y mediante las cuales se produce y mantiene el material viviente organizado. El metabolismo incluye la utilización de los nutrientes en la producción de la energía útil para las funciones vitales del organismo.

enzima



Todo cambio metabólico está controlado por una proteína específica que se denomina "enzima". Los alimentos se transforman o metabolizan en el organismo por la acción de enzimas específicas para cada uno de ellos. Sólo así llegan al torrente sanguíneo y de allí a las células, para que el cuerpo los aproveche. Las enzimas son sustancias que aceleran el metabolismo del alimento en el organismo.

ACTIVIDADES



1. Los seres humanos necesitamos energía no sólo para movernos, trabajar, caminar, hablar, comer, sino también para respirar, para que pueda circular la sangre y mantener la temperatura del cuerpo uniforme a 37 °C, etc. Esta mínima cantidad de energía requerida es el nivel mínimo de metabolismo necesario para vivir y se llama "metabolismo basal". ¿Este metabolismo basal será el mismo para todas las personas?

.....

.....

.....

.....

.....

No, hay muchos factores que modifican el metabolismo basal. Describiremos brevemente los principales:

?
peso corporal magro

Es el peso corporal total menos el peso de la grasa.

NOTAS

.....

.....

.....

.....

.....

.....

.....

.....

.....

.....

.....

.....

.....

.....

.....

.....

.....

.....

.....

.....

.....

.....

- **Tamaño y constitución del cuerpo:** generalmente, el metabolismo basal es mayor en una persona de constitución física grande que en una pequeña. Lo importante no es el peso corporal total sino el peso corporal **magro**, ya que el tejido graso requiere de poca energía para su mantenimiento.

- **Sexo (género):** por lo general, si comparamos un hombre con una mujer de la misma altura y peso, el hombre tiene un mayor metabolismo basal que la mujer. Esto es debido a que el hombre posee menor cantidad de grasa corporal y más masa muscular que la mujer.

- **Edad y crecimiento:** los niños tienen un elevado metabolismo basal, ya que hay una gran intensidad de las reacciones celulares debido al crecimiento del organismo. Por otro lado, en la edad adulta el metabolismo basal descende porque disminuye la masa celular activa y porque en muchos casos aumenta la grasa corporal total.

- **Nivel hormonal:** la tiroxina (hormona producida por la tiroide) produce una variación en el metabolismo basal. Si la secreción de esta hormona disminuye (hipotiroidismo), el metabolismo basal se reduce también y la persona tiende a subir de peso. Si la secreción de esta hormona aumenta (hipertiroidismo) el metabolismo basal aumenta y el individuo tiende a perder peso. Además, la adrenalina, generada cuando estamos asustados, causa una elevación en el metabolismo.

- **Efecto térmico de los alimentos:** después de ingerir una comida aumenta el metabolismo, ya que requerimos energía para que se produzcan las distintas reacciones químicas asociadas con la digestión, la absorción y el almacenamiento de los alimentos en el organismo. Este efecto se denomina "efecto térmico".

- **Movimiento humano:** durante el sueño el metabolismo basal es mínimo, cuando nos paramos o sentamos aumenta en un 20% o 30 %, comparativamente. Si realizamos ejercicios físicos el metabolismo basal es mayor.

ACTIVIDADES



1. ¿Cómo se logra mantener constante el peso del cuerpo?

.....

.....

Hay una ecuación llamada ecuación del balance energético que establece que el peso corporal se mantendrá constante cuando la ingesta calórica (la energía química proporcionada por los alimentos ingeridos diariamente) sea igual al gasto calórico (energía gastada durante el transcurso del día).

Ingesta calórica = gasto calórico



ACTIVIDADES

1. Si quisiéramos adelgazar, ¿cómo cree que tendría que ser la relación entre el gasto calórico y la ingesta calórica?


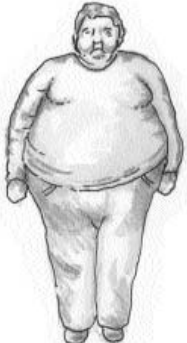
.....
.....
.....

Considerando la ingesta calórica y el gasto calórico tendremos tres situaciones posibles. Complete este cuadro con los siguientes términos referidos al estado físico de una persona:

- peso corporal saludable;
- disminución de peso, anorexia;
- sobrepeso, obesidad.

NOTAS

.....
.....
.....
.....
.....
.....
.....
.....
.....
.....
.....
.....
.....
.....
.....
.....
.....
.....
.....
.....
.....

Balance energético	Estado físico	Representación gráfica
Ingesta calórica = gasto calórico		
Ingesta calórica > gasto calórico		



ACTIVIDADES

1. Determine su I.M.C

.....

.....

.....

ACTIVIDADES



Actividades de integración

1. Explique el significado de los siguientes términos:

a) metabolismo basal

.....

.....

b) vitaminas

.....

.....

c) nutriente

.....

.....

2. Señale si las siguientes afirmaciones son verdaderas o falsas. En caso de ser falsas justifique su respuesta:

a) Las sustancias orgánicas son térmicamente estables.

b) El hierro es un nutriente de origen orgánico cuya función es transportar el oxígeno hasta los tejidos.

c) Si al realizar el balance energético la ingesta calórica es mayor que el gasto calórico la persona tiene sobrepeso.

d) Los almidones son hidratos de carbono que poseen estructuras complejas.

.....

.....

.....

.....

.....

.....

.....

.....

.....

3. Realice un esquema o mapa conceptual con los siguientes conceptos: metabolismo basal – grasas - nutrientes – hidratos de carbono- edad y crecimiento - sustancias orgánicas – sexo -sustancias inorgánicas – tamaño y constitución del cuerpo – proteínas.

4. Calcule el valor calórico de:

a) Un kilo de carne para asado, sabiendo que 100 gramos de carne para asado contienen aproximadamente 0 gramos de hidratos de carbono, 26,6 gramos de proteínas y 50,5 gramos de grasas.

b) Una cucharada de azúcar (5 gramos), sabiendo que 100 gramos de azúcar contienen aproximadamente 105 gramos de hidratos de carbono, 0 gramos de proteínas y 0 gramos de grasas.

5. Una persona va a un supermercado a comprar una gaseosa que no contenga ningún tipo de azúcar. ¿Qué palabras no deben encontrarse en la etiqueta, referidas a la composición de la gaseosa, para estar seguro de que no contiene azúcar?

.....

6. Determine el "índice de masa corporal" (BMI) de una persona que mide 1,86 cm y pesa 100 kg. ¿Esta persona tiene un peso normal, sobrepeso u obesidad? Justifique su respuesta.

BIBLIOGRAFÍA UTILIZADA EN LA ELABORACIÓN DEL MATERIAL

- AMESTOY, ELENA M. Y LOIS, DELIA (1998), **Ciencias naturales**. E.G.B. 9, Buenos Aires, Editorial Stella.
- ATKINS, (1992), **Química general**, Barcelona. España, Editorial Omega.
- BACHRACH, ESTANISLAO y otros (2004), **Ciencias naturales 9**, Buenos Aires, Editorial Estrada.
- BERGÉS. T y otros (1995), **Ciencias de la naturaleza, biología y geología**, Madrid, Editorial Anaya.
- BOCALANDRO. N. y otros (1999), **Biología I**, Buenos Aires, Editorial Estrada.
- BROWNSSELL, V.L. y otros (1993), **La ciencia aplicada al estudio de los alimentos**, México, Editorial Diana.
- DAL FÁVERO, MARÍA A. y otros (2001), **Química activa**. Polimodal, Buenos Aires, Editorial Puerto de Palos.
- HEWITT, PAUL G. (1998), **Física conceptual**, México, Editorial Addison Wesley Longman.
- HILL, JOHN Y KOLB, DORIS (1999), **Química para el nuevo milenio**, México, Editorial Prentice Hall Hispanoamérica S.A.
- MILONE, J. O. (1981), **Química V**, Ed. Estrada.
- REYNOSO L. (1999), **Física EGB3**, Buenos Aires, Editorial Plus Ultra.
- VIDARTE, LAURA (1998), **Química para descubrir un mundo diferente**, Buenos Aires, Editorial Plus Ultra.



Se terminó de imprimir el 10 de octubre de 2005 en los Talleres Gráficos de Inca Editorial Cooperativa de Trabajo Ltda., sita en José Federico Moreno 2164/2188, de la ciudad de Mendoza, República Argentina.
incasterio@incaeditorial.com